

**課前思考**

一、漠南非洲印象

1. 你覺得以下有哪些照片是拍攝自漠南非洲呢？



2. 請用一句話代表你對非洲的印象： \_\_\_\_\_

3. 為什麼你對非洲會有這樣的印象呢？ \_\_\_\_\_

4. 老師的說明和你對非洲的印象有一樣嗎？ \_\_\_\_\_

你對非洲有新的看法嗎？ \_\_\_\_\_

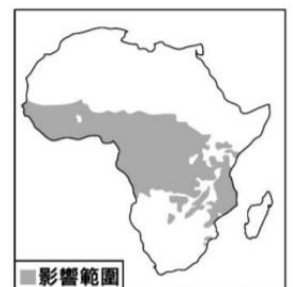
**1-1 自然環境(課文 P12-15)**

一、地形

1. 非洲的地形主體為： \_\_\_\_\_

2. 有「地球上最大的傷疤」之稱的東非大裂谷是受到什麼作用力而形成： \_\_\_\_\_

3. 非洲的昏睡症是由啗啗蠅傳播的一種疾病，右圖是啗啗蠅的影響範圍，對照課本 P13 圖 1-1-1，此範圍內大致包含以下哪些地形？  
撒哈拉盆地 剛果盆地 東非高原 喀拉哈里盆地 南非高原 衣索比亞高原 幾內亞灣沿海平原 (修改自 105 會考 5 題)

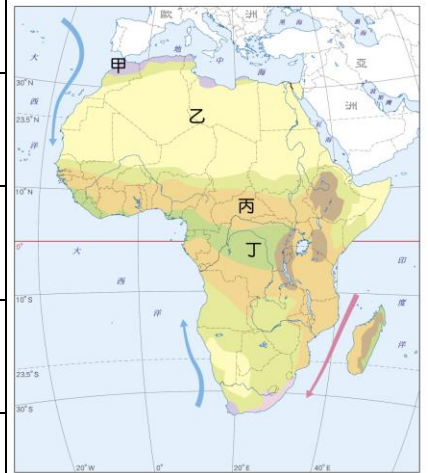


二、氣候

1. 請用螢光筆在右圖畫出赤道

2. 對照右圖及課本 P14-15，完成下表：

代號	氣候名稱	氣候特色	畫出植被景觀
甲			
乙			
丙			
丁			



3. 位於赤道附近的吉力馬札羅山，山頂為何終年積雪？\_\_\_\_\_

屬於哪一種氣候類型：\_\_\_\_\_

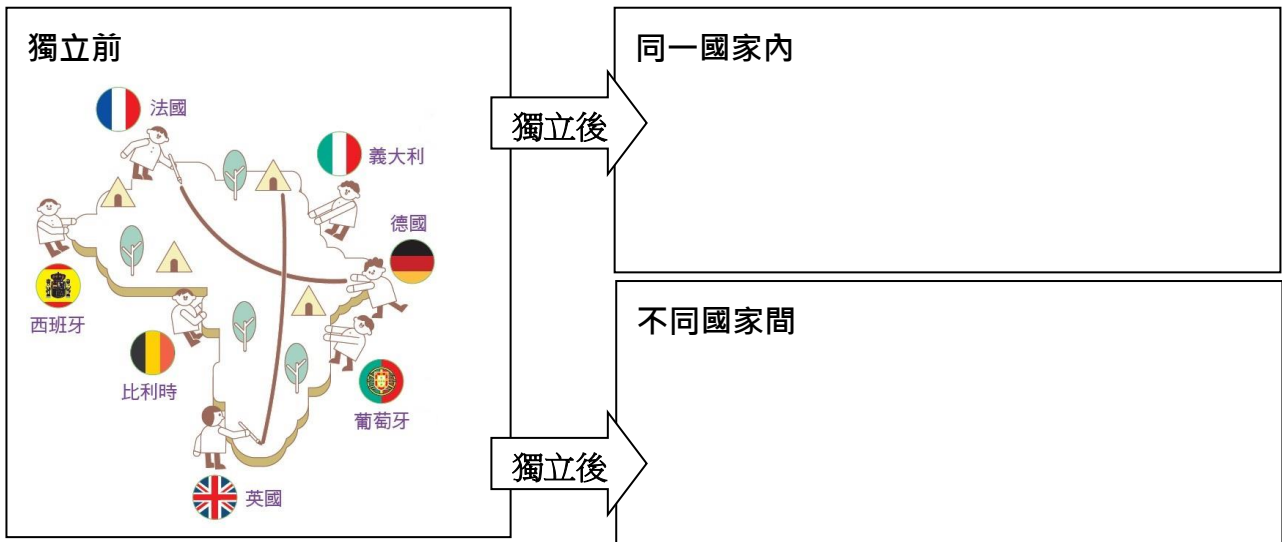
4. 參考課本 P14，哪些氣候類型沒有呈現南北對稱？\_\_\_\_\_

(馥甄案：此處的對稱是指受緯度影響，赤道以北有、赤道以南也有此氣候類型。)

### 1-2 族群問題(課文 P17.20)

1. 漠南非洲與漠北非洲的族群有什麼不同？\_\_\_\_\_

2. 15 世紀歐洲殖民勢力進入漠南非洲後未考慮當地族群分布，只依彼此協議劃分勢力範圍，對獨立後的各國造成什麼影響？請在下圖中畫(寫)出來。



### 1-3 產業活動

#### 一、傳統產業(課文 P16)

1. 「早期，臺灣中部山區的原住民開墾坡地時會先砍伐樹木，待其充分乾燥後點火焚燒，坡地因此留下不少灰燼，可作為肥料。首年的收穫相當可觀，但通常僅能耕作 3 至 5 年，便須遷移到其他坡地，再以相同方式開墾。」請問：

1) 此種耕作方式稱為：\_\_\_\_\_

(修改自 110 會考 33 題)

2) 非洲哪些氣候區也能見到此種耕作方式？\_\_\_\_\_

3)為何耕作幾年後就必須遷移，另尋新耕地？\_\_\_\_\_

4)此耕作方式能長期維持生態環境的平衡的原因是？\_\_\_\_\_

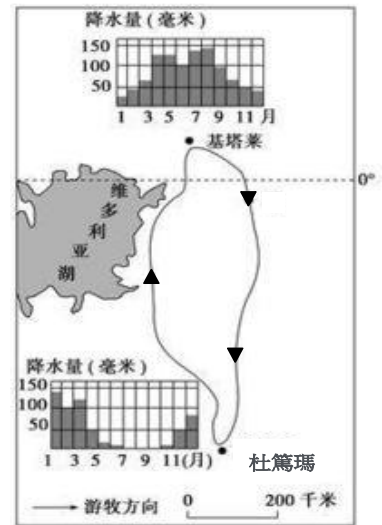
2.分布在東非肯亞和坦尚尼亞的畜牧民族馬賽人，每年的畜牧路線如右圖所示，最南到坦尚尼亞的杜篤瑪(6°S)，最北到肯亞的基塔萊(1°N)。請問：

1)馬賽人的畜牧方式稱為：\_\_\_\_\_

2)根據右圖請推論馬賽人停留在杜篤瑪的月份是？

□1-3月 □4-6月 □7-9月 □10-12月

3)馬賽人畜牧路線是為因應何種現象設計的？



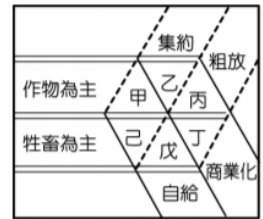
## 二、殖民地式經濟(課文 P21)

1.歐洲列強殖民漠南非洲的目的是：\_\_\_\_\_

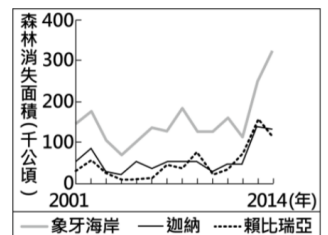
2.殖民地式經濟包含哪兩種方式？1)\_\_\_\_\_、2)\_\_\_\_\_

3.非洲礦產資源豐富多樣的原因是：\_\_\_\_\_

4.右圖中的甲-己代表不同農業類型及特徵。請問熱帶栽培業應該是圖中的哪一類型？\_\_\_\_\_



5.右圖是非洲三個國家自 2001 至 2014 年森林消失的情況。森林的消失受各種不同因素影響，其中大規模種植作物是最重要的因素。請問： (修改自 110 會考 16 題)



1)對照課本 P20 圖 1-2-1 及 P21 圖 1-2-2，當地大規模種植的作物可能是？稻米小麥可可棉花

2)承上題，推測當地氣候特徵為(請圈選)：乾、溼、冷、熱

6.由課本 P21-22 可知，殖民地式經濟對漠南非洲造成了哪些問題？

1)環境方面：	2)糧食方面：
3)經濟方面：	4)我還想到了：

## 三、公平貿易

1.觀賞影片：巧克力的黑暗面，回答下列問題：

1)你和影片中可可園裡的小孩，生活有哪些差異？



2)看到可可園裡小孩的生活，讓你有什麼感受？

3)你認為是什麼原因造成了你們之間的生活差異？

4)你覺得你在生活中可以做些什麼事，幫助這些可可園裡的小孩？

2.閱讀課本 P28-29，回答下列問題：

1)公平貿易制度是想解決農產品產銷過程中的什麼問題？\_\_\_\_\_

2)公平貿易制度是如何向農民收購農產品？\_\_\_\_\_

3)舉出一個公平貿易運作上的問題？\_\_\_\_\_

4)我們在選購巧克力及其他產品時，可以選擇印有下列哪一標章的產品，以支持生產者得到公平的對待與合理的收入，有機會真正脫離貧窮？



5)公平貿易產品市價通常較高，會影響到你選購的意願嗎？會 不會

理由：\_\_\_\_\_

### 1-4 發展與挑戰

1.請閱讀課本 P24-26 漠南非洲改善居民生活的例子後，請在下表各寫一例。

類別	作法	目的
國家		
企業		
非政府組織		

2.漠南非洲總人口數約 11 億人，占全球 14%，經濟生產總值約占全球 2%，昔日整體經濟成長率低於世界平均。然而，2000 年起許多人看好漠南非洲的發展，紛紛前往投資。如果是你，你在非洲的投資與創新會是什麼？請利用下面的思考帽探討。

思考帽	著色	提問與回應
白帽 (問題事實)		我看到非洲...
紅帽 (情緒感覺)		我的感覺是...
黃帽 (分析優點)		我認為商機是...
黑帽 (提出缺點)		我認為面臨的阻礙是...
綠帽 (創意巧思)		我想到的點子是...
藍帽 (統整展望)		我的投資行動是...

