

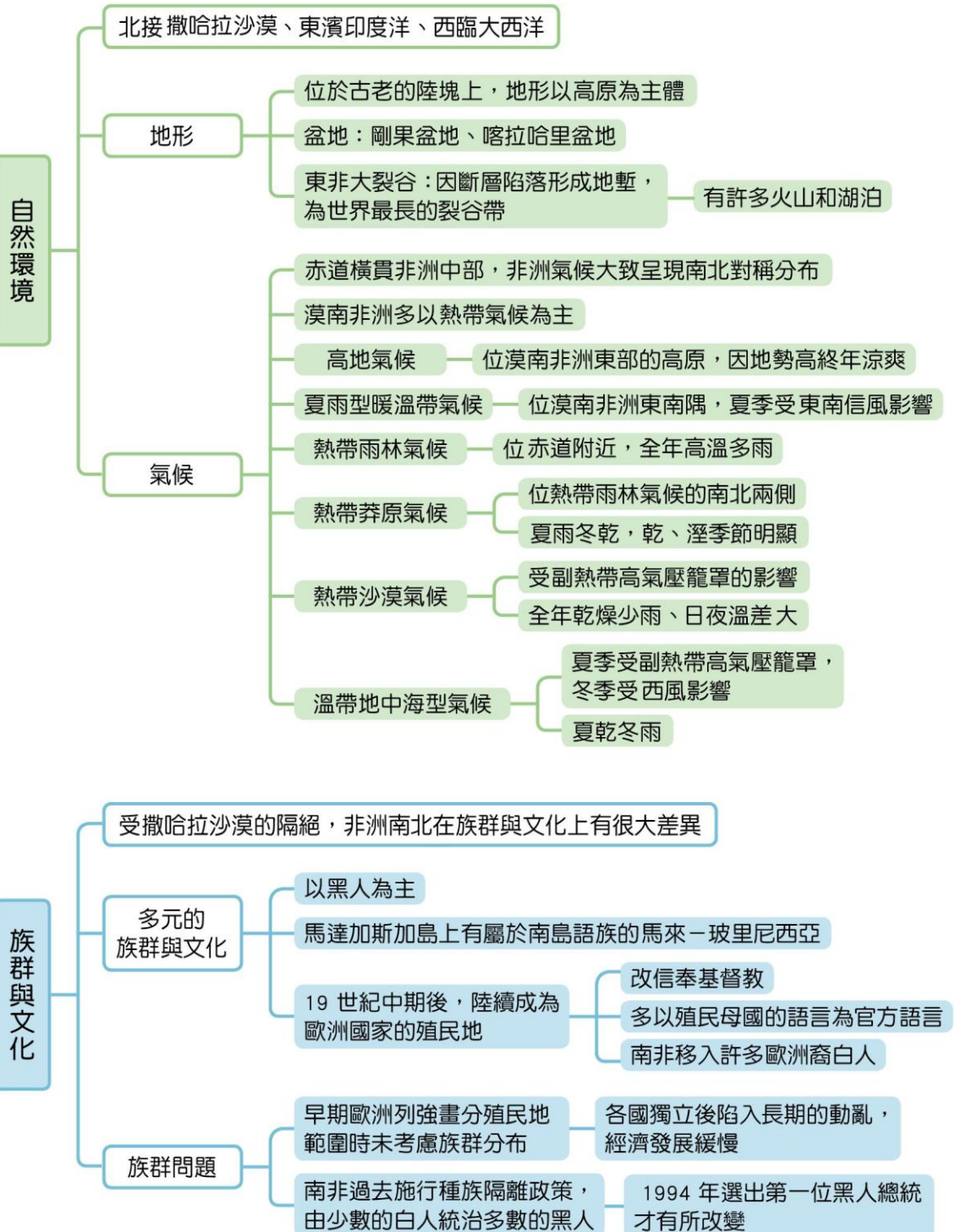
第1章

漠南非洲的自然環境與文化



一 本章概要 >>

漠南非洲的自然環境與文化

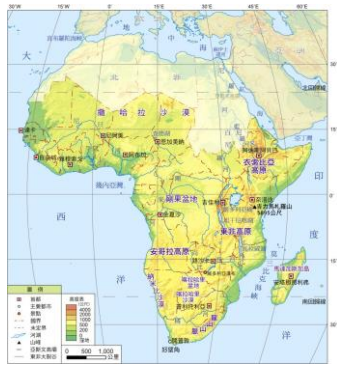


1-1 自然環境

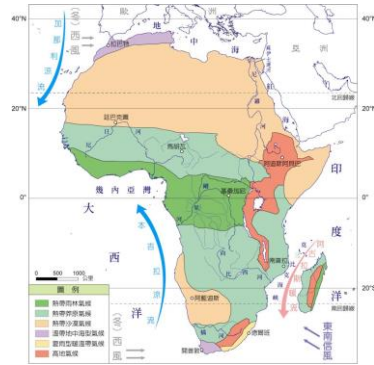
一、地形

1. 漠南非洲位於古老的陸塊上，北接撒哈拉沙漠、東濱印度洋、西臨大西洋。
2. 地形主體為【¹】。

西側		東側	地形造成的影響與說明
北 ↓ 南	【 ² 】盆地	東非高原 (【 ⁵ 】) 為斷層陷落形成的 【 ⁶ 】)	(1) 因高原緊鄰海岸，因此海岸陡峭而平直，缺乏天然港灣，對外【 ⁷ 】不便
	【 ³ 】盆地		(2) 東非大裂谷為世界最長的裂谷帶
	【 ⁴ 】盆地		(3) 沿著裂谷帶分布火山和湖泊，例如： 【 ⁸ 】山、【 ⁹ 】湖



▲ 漠南非洲地形圖



▲ 非洲氣候類型分布圖

二、氣候

1. 特色：赤道橫貫中部，使氣候、植物大致呈【¹⁰】分布。
2. 類型：

氣候類型	分布	特徵
【 ¹¹ 】氣候	東部高原	雖地處低緯，但因 地勢高 而終年涼爽
夏雨型暖溫帶氣候	【 ¹² 】隅	(1) 受【 ¹³ 】影響， 夏季 降水量較多 (2) 利【 ¹⁴ 】業發展
【 ¹⁵ 】氣候	赤道附近	(1) 全年高溫多雨 (2) 植被：高低成層、樹冠茂密的 熱帶雨林 (3) 【 ¹⁶ 】河流經，流域面積大，水力豐富
【 ¹⁷ 】氣候	熱帶雨林 南北兩側	(1) 夏【 ¹⁸ 】冬【 ¹⁹ 】，乾、溼季明顯 (2) 植被： 疏林、高草 等莽原
【 ²⁰ 】氣候	南、北回歸線 附近	(1) 成因：受 副熱帶高氣壓 籠罩 (2) 全年 乾燥少雨 、日夜溫差【 ²¹ 】
溫帶地中海型氣候	【 ²² 】隅	(1) 成因：夏季副熱帶【 ²³ 】氣壓籠罩，冬季【 ²⁴ 】風吹拂 (2) 夏乾冬雨 、氣候宜人

1-2 族群與文化

一、多元的族群與文化

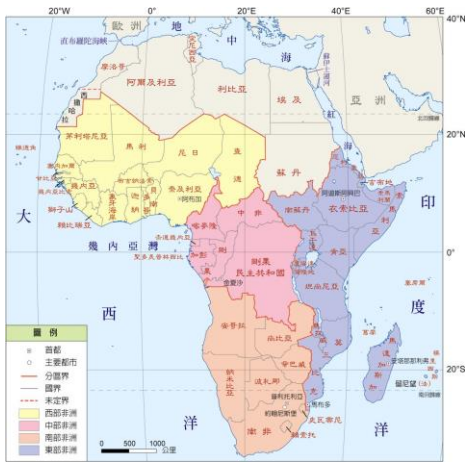
非洲的族群與文化，以【¹】沙漠為界，南北差異大。

區域	族群	文化
北	阿拉伯人	信奉【 ² 】教，主要語言為【 ³ 】語
南	1. 以【 ⁴ 】人為主 2. 【 ⁵ 】：歐洲裔白人移入	受殖民影響而有西方文化，傳統文化亦受影響： 1. 部分居民改信奉【 ⁶ 】教 2. 多以【 ⁷ 】的語言為官方語言
馬達加斯加島	馬來—玻里尼西亞人	屬於太平洋的【 ⁸ 】語族

二、族群問題

1. 因【⁹】複雜與【¹⁰】因素，埋下國內、外衝突的因子。

原因	歐洲列強未考慮不同族群的分布，部分地區以 經緯度 畫分殖民地範圍	
結果	【 ¹¹ 】衝突	同一國家由多個族群組成，例如：盧安達境內的胡圖族、圖西族
	【 ¹² 】衝突	同一個族群被分隔到不同的國家，例如：索馬利人
影響	各國獨立後陷入 長期動亂 ，導致國際資金不敢投入、經濟發展緩慢	



▲ 漠南非洲行政區圖

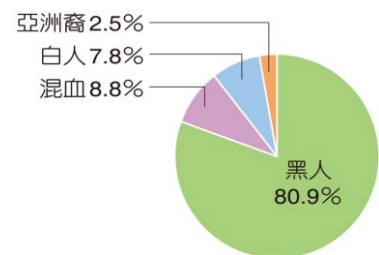


▲ 非洲族群分布示意圖

2. 南非的族群問題：

(1) 南非是漠南非洲經濟發展較佳的國家，但族群問題依舊造成社會動盪。

(2) 過去長期由【¹³】人執政，施行【¹⁴】政策，直到首次全民普選的黑人總統——曼德拉，才結束。

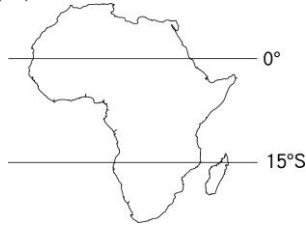


▲ 南非族群比例圖

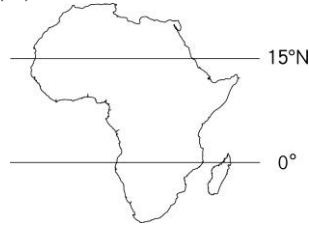
1-1 自然環境

1. () 非洲氣候呈現南北對稱分布，與所處緯度有很大的關連，下列何者為非洲正確的緯度位置？

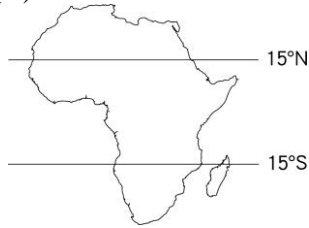
(A)



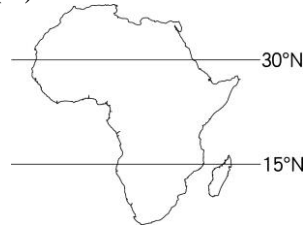
(B)



(C)



(D)



2. () 漢南非洲主要河流包括尼日河、剛果河、尚比西河、橘河等，如右圖。請問：這四條河流分別流入哪些大洋？請找出對應正確的選項。



(A)橘河——印度洋

(B)剛果河——印度洋

(C)尼日河——大西洋

(D)尚比西河——大西洋。

3. () 承上題，河流的逕流量與其流域範圍的降水量相關，根據四條河流的流域範圍判斷，哪一條河流的年逕流量應該最高？

(A)橘河

(B)剛果河

(C)尼日河

(D)尚比西河。

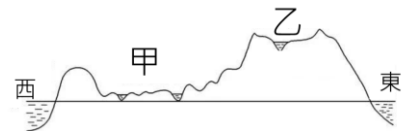
4. () 右圖為非洲沿赤道所畫出的地形剖面圖，圖中的甲、乙分別為哪些地形？

(A)剛果盆地、東非高原

(B)撒哈拉盆地、東非高原


(C)剛果盆地、衣索比亞高原

(D)喀拉哈里盆地、東非高原。



5. () 承上題，乙地形上分布著世界最長的裂谷帶，這個裂谷帶的成因為下列何者？

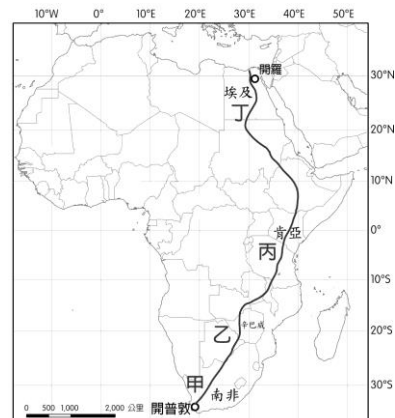
(A)



(B)

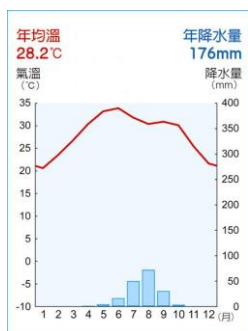


6. 住在南非開普敦的一位老太太——朱莉婭·阿爾布 (Julia Albu)，給自己的 80 歲生日禮物是一場穿越非洲的長途旅行，她花了 5 個月的時間，自己一個人開車從南非穿越整片非洲大陸，抵達英國倫敦。旅途中她以 Facebook 的粉絲專頁，一路記錄自己旅途的所見所聞。途經 20 多個國家，長達 7 千多公里的路程，也成為她送給自己最有意義的生日禮物。右圖為朱莉婭開往埃及的路線示意圖。

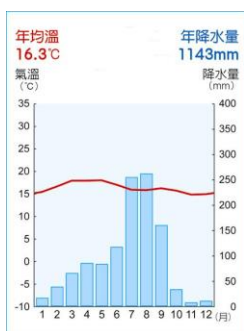


請根據上文章與附圖，回答下列問題。

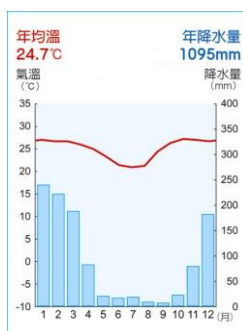
(1) 由南非開普敦到埃及的路途中，她沿途經過地區的氣候型態依序為何？請對照右上圖代號填入對應的氣候型態。



【 】



【 】




【 】



【 】

() (2) 右圖是她在途中拍下的二張照片。請問：上面那張照片的植被型態屬於下列何者？

- (A) 針葉林
- (B) 熱帶莽原
- (C) 熱帶雨林
- (D) 溫帶草原。



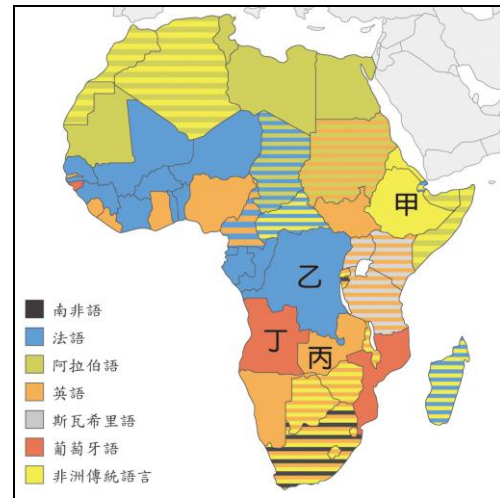
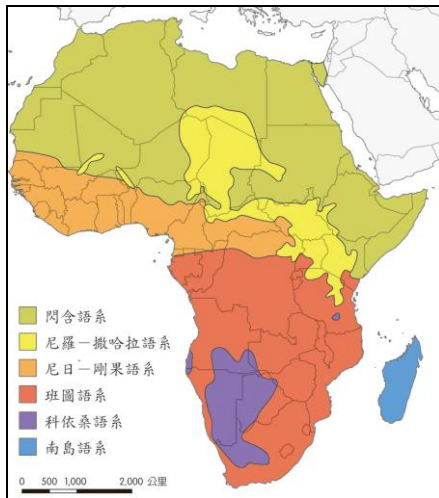
() (3) 承上題，下面的照片最可能是她在途經的哪一代號區所拍攝的？

- (A) 甲
- (B) 乙
- (C) 丙
- (D) 丁。



1-2 族群與文化

1. 附圖分別為「非洲主要語系分布圖」（左圖），以及「非洲各國官方語言分布圖」（右圖）。請根據兩圖回答下列問題：



- () (1) 下列哪一種語言最可能屬於左圖中的亞非語系？
 (A)法語 (B)英語
 (C)漢語 (D)阿拉伯語。
- () (2) 左圖中的南島語系分布於馬達加斯加島，這裡的文化、語言最可能與下列哪一地區最為相似？
 (A)東北亞 (B)非洲西部
 (C)東南亞 (D)西亞與北非。
- () (3) 右圖中，非洲多國的官方語言多有 2 種以上，這可能與下列哪一項因素較有關連？
 (A)多曾受歐洲國家殖民
 (B)多曾受亞洲國家殖民
 (C)國家內族群較為一致
 (D)非洲大陸的族群複雜。
- () (4) 根據右圖的官方語言判斷，甲～丁中哪個國家最可能沒有被殖民過？
 (A)甲 (B)乙
 (C)丙 (D)丁。
- () (5) 有關此兩圖的敘述，下列何者最為正確？
 (A)左圖中的印歐語系使用者可能為阿拉伯人或其後裔
 (B)從兩圖無法看出北非以及漠南非洲在語言上的差異
 (C)由兩圖的語系與官方語言可推論非洲文化與族群十分單一
 (D)尼羅-撒哈拉語系與尼日-剛果語系主要使用者應為黑人。

四 大考試題演練

1. () 右表為北半球四個都市的年平均降水日數統計，根據表中資訊判斷，何者最可能位於熱帶莽原氣候區？

月份 都市	3-5	6-8	9-11	12-2	合計
甲	31.0	24.0	30.0	34.0	119.0
乙	19.3	6.8	21.4	26.4	73.9
丙	22.3	26.1	20.8	20.8	92.9
丁	10.0	44.0	0.0	0.0	71.0

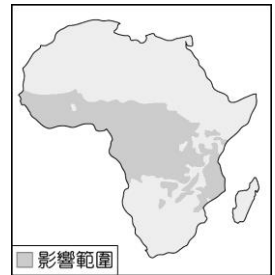
單位：天

【109 會考】

- (A)甲 (B)乙
(C)丙 (D)丁。

2. () 非洲的昏睡症是由嗜睡蠅傳播的一種疾病，右圖是嗜睡蠅的影響範圍，下列何者大部分地區位於此範圍內？

【105 會考】



- (A)剛果盆地
(B)撒哈拉盆地
(C)喀拉哈里盆地
(D)尼羅河三角洲。

3. () 一地的人口密度常隨海拔高度的不同而異，右表為某類型國家兩種海拔高度分區的人口疏密狀況，其結果與全球多數國家相反。該類型國家最可能位於下列哪一緯度區內？

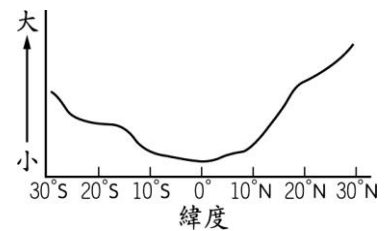
海拔高度	人口密度
1,000 公尺以下	較稀疏
1,000 公尺以上	較稠密

【105 會考】

- (A) 66.5°N~90°N (B) 30°N~60°N
(C) 23.5°N~23.5°S (D) 40°S~66.5°S。

4. () 由於赤道橫貫非洲中部，故非洲的氣候大致呈現南北對稱的特性，右圖即為非洲某氣候要素統計數值隨緯度變化的情形，圖中縱軸應代表下列何者？

【101 基測改】



- (A)年雨量 (B)年溫差
(C)一月月均溫 (D)年降水日數。

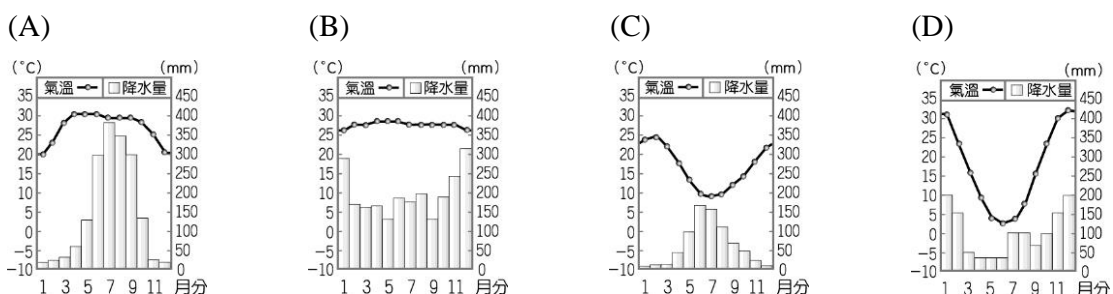
5. () 「由印度洋吹來的東風抵達這座位於赤道附近的世界名山之後，水氣在陡然上升的過程中凝結，因此高聳入雲的山頂白雪皚皚，形成『赤道雪峰』的奇觀。」上述名山應是位在下列何處？

【100 北北基】

- (A)非洲 (B)亞洲 (C)歐洲 (D)南美洲。

6. () 小妮的家鄉位於南半球，而且當地冬季降水比夏季多。下列哪一張圖最可能是小妮家鄉的氣候資料？

【99 基測二改】



7. () 「這個大陸的南端，是一處險要的『岬角』，在蘇伊士運河通航前的三百多年間，此地為歐亞間航行的必經之地，直至今日仍是世界交通和戰略的要地。」上文所指的岬角應是位於現今何國？ 【99 基測二】

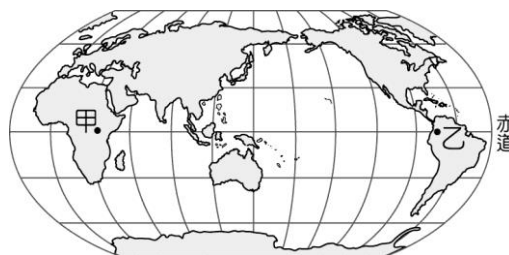
- (A)南非
- (B)埃及
- (C)土耳其
- (D)澳大利亞。

8. () 右表是八國隊伍依照「洲別」分組比賽的賽程，勝出者可取得代表該洲參加足球賽的資格。表中哪一組的勝出者可代表非洲參賽？ 【98 基測二】

組別	賽程
甲	巴西 vs. 阿根廷
乙	沙烏地阿拉伯 vs. 伊朗
丙	賴比瑞亞 vs. 奈及利亞
丁	法國 vs. 德國

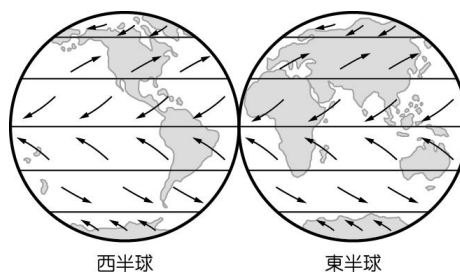
- (A)甲
- (B)乙
- (C)丙
- (D)丁。

9. () 右圖為全球各大洲分布圖，赤道通過的地區幾乎均為熱帶雨林氣候，但圖中的甲、乙兩區卻不是此種氣候類型。造成上述狀況的因素為下列何者？ 【97 基測二】



- (A)地勢高低
- (B)海陸分布
- (C)洋流差異
- (D)植被疏密。

10. () 「每年大約會有 2,500 萬至 5,000 萬噸的沙子隨著盛行風，飄移到西印度群島與南美洲的北部。」前述的沙子，若根據右圖中的全球盛行風向判斷，最有可能來自下列哪一個地區？ 【97 基測一】



- (A)黃土高原
- (B)北美大平原
- (C)撒哈拉盆地
- (D)澳洲西部沙漠。