

一、地圖挑戰:請觀察下面兩張圖片思考並回答問題



(一)請寫出看到 A 圖片你聯想到的三個國家或地區?

1. _____ 2. _____ 3. _____

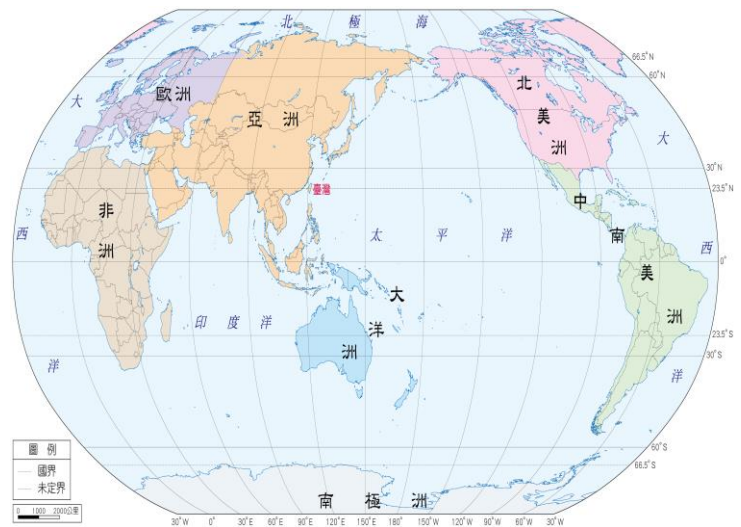
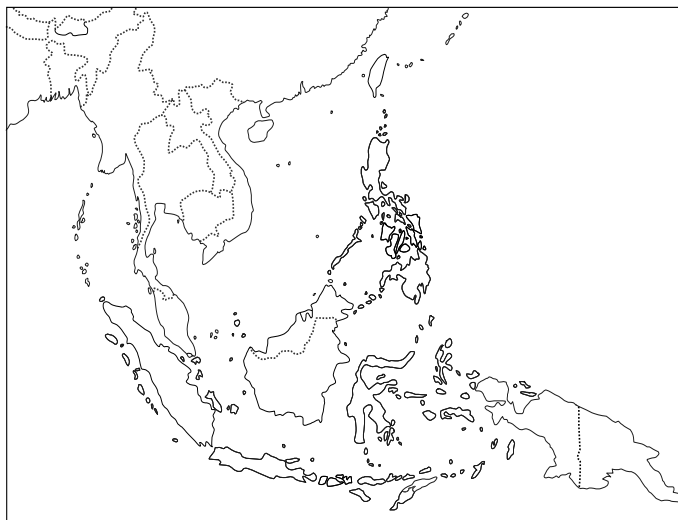
說說看為什麼? _____

(二)請寫出看到 B 圖片你聯想到的三個國家或地區?

1. _____ 2. _____ 3. _____

說說看為什麼? _____

(三)請在左下東南亞地圖中標出你覺得 A 圖和 B 圖最有可能出現的位置。



(四)請在右上世界地圖中畫出以下地點在大航海時代可能的最短海上交通路線

大航海時代可能的最短海上交通路線

1 阿拉伯半島 ↔ 中國 (紅筆) 2 歐洲 ↔ 中國 (藍筆)

3 請將這些路線可能交會的區域圈起來


(五)承上題，對於這個區域來說，航海路線的交會可能帶來哪些方面的影響?

(請寫出三個) 1 _____ 2 _____ 3 _____

(六)結合以上五點，請試著參考課本 P32，用一句話形容東南亞的重要性。

二、東南亞的自然環境

(一)閱讀課本 34、35 頁，完成下列表格的整理

東 南 亞	() 半島	1.延伸自() 山脈及河川_____走向 地形特徵 山_____平原_____ 2.平原分布於_____ 請畫出此類地形分布位置示意圖 3.根據圖 1-3-1 東南亞地形圖， 找到各河川出海口及其重要城市 紅河-()、 湄公河-()、昭披耶河-()、 伊洛瓦底江-() 4. 主要傳統經濟活動為_____業 這裡發展的農業是 集約/粗放、水稻/小麥、 說出你判斷的依據_____	
	() 群島	()群島 ()群島	1.島嶼散布在()洋和()洋 之間 2.位於板塊交界帶，多()、()

動動腦



- 1.請圈出漫畫主題在描述哪一個地區？
中南半島 / 南洋群島
- 2.請問有哪些國家依賴湄公河水資源？
馬來西亞 泰國 越南 菲律賓
印尼 緬甸 寮國 柬埔寨
- 3.湄公河上游發源自哪一個國家？
- 4.承上題，這個國家做了什麼事導致下游發生什麼事，請用一句話簡單說明。

- 5.圖中有一個人他根本沒有水可取用，請問他最有可能是哪個國家？

為什麼？

金翅鳥盤旋的香料群島【改寫自舌尖上的東協/胖胖樹 王瑞閔 著】

在西南太平洋與印度洋之間，有兩萬五千多個大小島嶼，散佈在赤道兩側。在地理學上稱為南洋群島；在生物地理學上，屬於同一個生物區系；在語言學上同屬南島語系，是一個氣候、文化十分類似的區塊，卻因為歷史發展等外部因素，在二次世界大戰後逐漸獨立成六個不同國家：印尼、馬來西亞、新加坡、汶萊、東帝汶、菲律賓。

閱讀文章後，請搭配課本 38 頁圖 1-3-10 回答下列問題

- 1.請在圖 1-3-10，圈出文章第一段中粗體畫線處的位置。
- 2.請根據之前上課所學，在圖上畫出赤道的位置。
- 3.在第一段提到南洋群島是一個氣候、文化十分類似的區塊，請勾選下列何者為南洋群島的相同點，並寫出原因
(1)氣候：熱帶雨林氣候 熱帶季風氣候 因為_____
- (2)文化(宗教)：佛教 伊斯蘭教 基督教 印度教 因為_____
- 4.根據文章第一段，找出為什麼這樣一塊地理區，為什麼會逐漸獨立成六個不同國家？(請在文章中用紅筆畫線)

印尼的國徽是一隻金翅鳥，鳥爪所抓的白色緞帶上的文字一般翻譯作「異中求同」。印尼是全世界最大的的群島國家，領土由一萬七千五百多個大小島嶼構成，橫跨赤道兩側。這樣特殊的地理環境，演化出豐富的生命，其生物多樣性僅次於巴西。多元的族群、文化、豐富的物產，還有複雜的歷史背景，讓印尼菜多采多姿，既有受到外國影響的料理，也保有許多地方美食。



蘇門答臘與雅加達，占據重要的貿易位置，自古以來受到印度、馬來西亞，泰國，中國影響最多；爪哇保留較多原住民風味，而印尼東部則有尼西亞料理的影子。當然也不能忽略荷蘭與葡萄牙等殖民者對印尼菜的影響。

米飯是印尼的主食，而複雜且多層次的香料，幾乎是印尼菜最明顯的表現。除了峇里島外，印尼較少吃豬肉，肉類以牛、羊、雞、鴨、魚為主。部分島嶼有食用巨蜥、狐蝠或昆蟲的習慣。

搶分題-閱讀文章後，請搭配課本回答下列問題

- 1.根據 34 頁圖 1-3-1，蘇門答臘與雅加達，占據重要的貿易位置，請問這是因為印尼控制了哪個海峽？_____
- 2.印尼東部則有尼西亞料理的影子，試著回想上學期第六課學到的大洋洲島群，請問最有可能為何？美拉尼西亞、玻里尼西亞、密克羅尼西亞
- 3.荷蘭與葡萄牙等殖民者對印尼菜的影響，想想看，歷史課學過荷蘭曾在印尼成立了哪

間跨國企業?_____

4.文中提到米飯是印尼的主食，請在印尼國徽中圈出代表圖案。

想想看，為什麼米飯是印尼的主食?_____

5. 除了峇里島外，印尼較少吃豬肉，根據 38-39 頁，請問為什麼會有這樣的情況?

動動腦 印尼菜多采多姿，試著把尺度放大，在南洋群島我們還可以看到哪些與別人相異之處呢?

根據課本 38 頁、39 頁找出二個國家與其他國家相異之處及原因

國家	相異之處(圈出來)	它的相異之處	其他國家	為什麼會這樣
菲律賓北部	氣候、宗教、語言	熱帶季風	熱帶雨林	緯度較高
	氣候、宗教、語言			
	氣候、宗教、語言			

6.挑戰題

文章提到，印尼生物多樣性僅次於巴西，請翻到課本第 6 頁世界地圖，找出巴西的位置，並想想看為什麼這兩個國家生物多樣性多?

7.挑戰題

南洋群島的特色是「異中求同」，想想看，那中南半島是不是也有這樣的特色呢? 試著各舉出一個例子吧!(口頭報告，記錄一個同學分享的發現)

相同: _____

相異: _____

三、東南亞經濟發展與區域結盟

(一) 產業發展

1. 觀看影片《靠油金立足~5:10》，你看到哪些油棕的加工品？請寫出 2 個

①_____ ②_____



2. 影片中，油棕從引進、栽種到加工的過程中，

你看到了哪些熱帶栽培業的特色？請勾選(複選)

- 熱溼環境 人力需求 作物單一 商業性生產 出口導向
集約農業 仰賴加工 經濟作物 大規模生產 殖民影響

3. 根據以上你勾選的特色，推論這項產業可能會對當地帶來哪些風險或優勢？

(1) 優勢_____ (可參考課本 P40 第二段)

(2) 風險_____ (可參考課本 P40 小幫手)

4. 想想看，產品的出口導致當地都市的分布位置出現何種特色？_____

5. 東南亞的產業由傳統農業轉為熱帶栽培業及工礦業

(1) 由哪一級產業轉向哪一級產業？_____

(2) 導致改變的主要原因為何？_____ (可參考課本 P40 第一段)

(3) 吸引外資願意進來投資的原因為何？(可參考課本 P40 第二段)

①_____ ②_____

6. 觀看影片【為棕櫚油砍樹林 11 個台北大小雨林消失 1:54-4:00】，

觀看完影片後，你發現了種植棕櫚油還有哪些你沒想到的風險？

(1)_____ (2)_____ (3)_____



(二) 新興市場與區域結盟

1. 觀看影片《東協市場崛起》，東協經濟共同體擁有哪些特色？請寫下 2 個

①_____ ②_____

2. 台灣推行的新南向政策有哪些有利因素？

①_____ ②_____

3. 閱讀課文 P.41 課文第二段，

分析東協經濟共同體成為第二個世界工廠的關鍵因素是什麼？



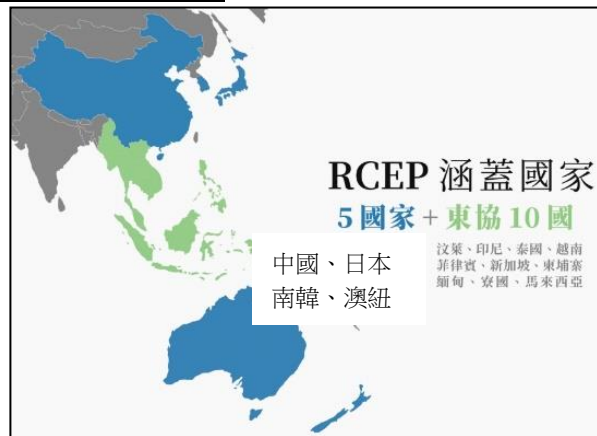
1. 聚焦到東南亞國協的「會徽」，想想看它這個符號象徵什麼？



2. 觀察圖一與圖二 AFTA 到 RCEP，你發現了哪些改變？(參考課本 P41 第三段)



圖一:AFTA 東南亞自由貿易區



圖二:RCEP 區域全面經濟夥伴協定

四、東南亞新興市場與台灣產業的關聯

觀看「策馬新南向-萬島之國印尼」影片，由三段台灣廠商前進印尼市場的影片，依據表格內容的指引，記錄影片內容並思考提問：



	投資成功或是失敗？	為什麼？
7-11 (2:07~3:12)		
鼎泰豐 (4:35~6:45)		
日出茶太 (6:48~7:21)		
如果是你要去印尼開店，請問你打算開什麼店？ 你的策略會是什麼？		

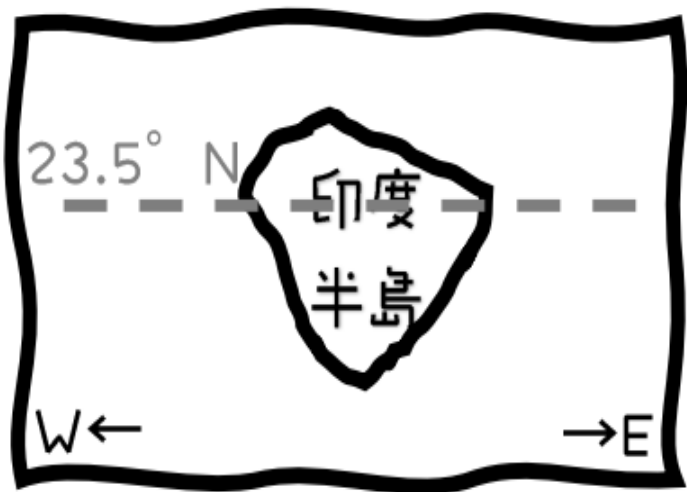
「印度半島不是一直都很熱嗎？」「去印度半島是不是只要帶短袖夏裝？」各位！拜託！千萬不要以為印度半島永遠都很熱！印度半島非——常——大——！每個城市的緯度和地形不同，在最冷的高山地區，冬天可能下探至攝氏零下 2、30 度。基本上，印度半島熱季大約是 3 月至 5 月，普遍炎熱，溫度經常飆到攝氏 40 度以上。印度有 80% 雨水下在雨季時，豐沛的雨量不大適合旅遊，加上排水不良，經常造成水患與交通堵塞，衛生環境也相對較差，再加上蚊蟲肆虐，通常不建議在雨季期間到印度半島旅遊。氣候較為涼爽的涼季，可說是是當地最適合旅遊的季節。

【改寫自:印度的氣候小知識：可別以為印度只有熱，就是要印度 /2017-09-13】

1. 『印度半島非——常——大——！』

配合課本 46 頁第一段，找出印度半島有什麼稱號？_____

請依據課文畫出這個稱號的由來



▲印度地形分布圖

2. 參考右上印度半島地形分布圖，配合課本 46 頁第二段，在課本畫重點後完成下列地形整理表格

區域	北部	中部	南部
地形區			
成因			
特徵	()災害多	()河是印度的聖河 人口分布的精華區	()豐富

☑上文提到『冬天可能下探至攝氏零下 2、30 度』，最有可能出現在印度哪一個地方？

- 北方高山 ○中部平原 ○南部高原

3. 請參考課本 49 頁表格，在文章中找出印度半島的三個季節，用紅筆框出來。

4. 根據文章內容及課本 48、49 頁整理出印度半島的氣候特色。

季節	月份	特色	成因
()季	()月~()月	涼爽乾燥	
()季	()月~()月	乾熱無風	
()季	()月~()月	濕熱多雨	

☑ 請在文章中用藍色線條，畫出雨季時的印度現象。

5. 觀察下列兩張圖片，完成表格內容

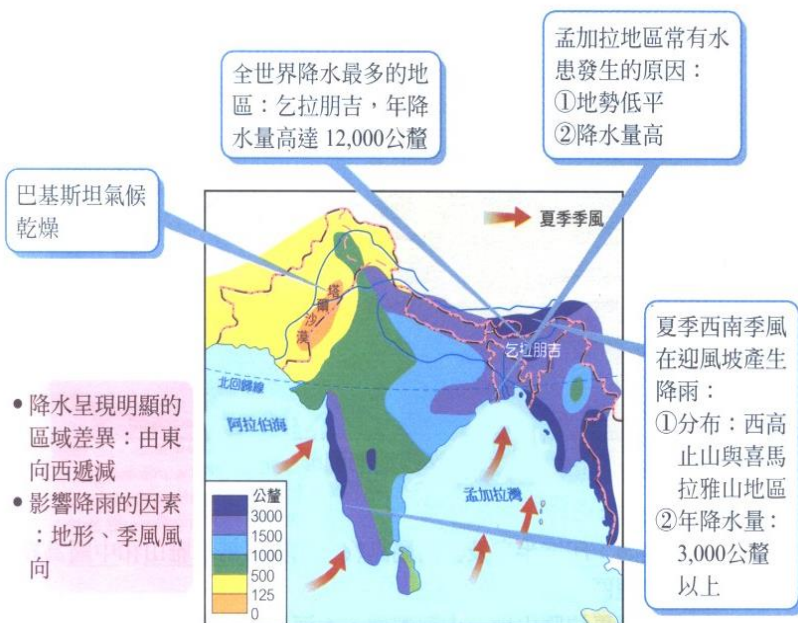
印度大平原(參考課本 48 頁)

降水分布—由()向()遞減→受()影響，水氣由孟加拉灣進入
農作物分布—受()影響 (可參考課本 51 頁)

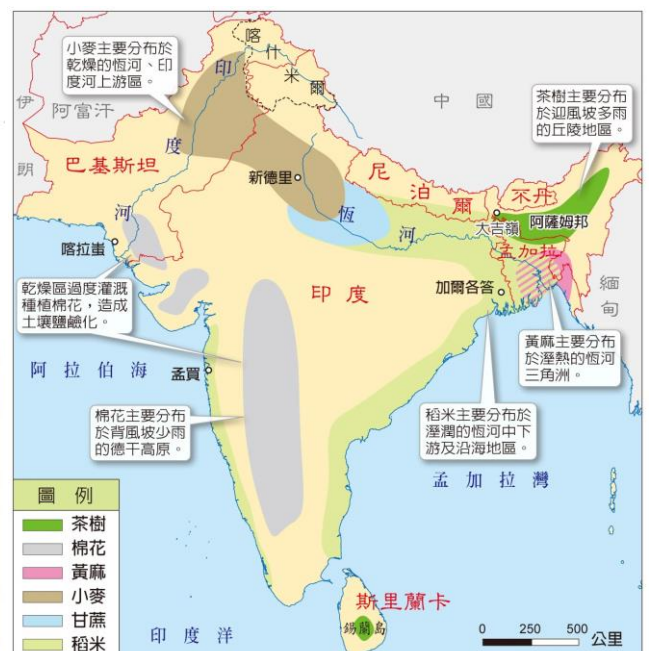
降雨量少 ←	→ 降雨量多		
地理區	印度河平原	恆河平原	恆河三角洲
國家			
作物			
環境問題			

印度東北部丘陵(參考課本 48 及 51 頁)

降水量全世界最多→主要為()雨，因為位於(西南季風)的()
農作物—()→受(地形)+(雨量)影響



南亞季風、雨量分布圖



二、印巴衝突

1. 印巴分治的原因是起因於()衝突

→ 脫離()國殖民獨立

→ 分裂為

- 印度教 — 印度
- 伊斯蘭教 — 東巴基斯坦 → ()
- 西巴基斯坦 → ()



◎會考專區

1. 西元 2016 年設計的某地理桌遊，遊戲規則為比較各國的人口總數，玩家必須將抽到的卡牌，放入正確的位置，使其由大到小排列。若小屏抽到的是印度，她應該將該卡牌放置在附圖中的哪一個位置才正確？【109 會考】

(A)甲 (B)乙 (C)丙 (D)丁



2. 附圖顯示 2011 年 9 月 18 日發生的強烈地震震央位置，除了建築物倒塌造成的人員傷亡外，由於某些因素影響使得搜救工作不易進行，導致死傷人數持續攀升。根據當地地形、氣候等環境條件判斷，造成上文中搜救困難的因素最可能為下列何者？【109 會考】

(A)山區冰河快速消融以致山洪暴發 (B)正值沙塵暴盛行時節，能見度低

(C)引發大規模海嘯，海水淹沒災區 (D)連日降雨，造成土石流掩埋道路




3. 以下是關於十七世紀臺灣地震的紀錄：「這年二月十五日發生強烈地震，這是我們入臺統治以來最大的地震，漢人店鋪倒塌二十多間，還有婦人及小孩被壓死，熱蘭遮城也多處龜裂。長官立刻向總部呈報，要求儘快從暹羅（今泰國）運木材來進行修復工作。」文中的「總部」，最可能位於圖（十六）中甲、乙、丙、丁何處？【109 會考】

(A)甲 (B)乙 (C)丙 (D)丁



圖(十六)

4.1854 年某英國博物學家前往東印度群島考察，八年內總共蒐集了 12 萬餘件的生物標本，並著有《馬來群島自然考察記：紅毛猩猩與天堂鳥的原鄉》。該博物學家在當地所見到的傳統住屋型式最可能是下列何者？【108 會考】



5.根據統計，印尼的海岸線長度排名世界第二位，比俄羅斯還長，其原因最可能為下列何者？【107 會考】

- (A)峽灣海岸曲折 (B)島嶼數量眾多 (C)國土面積較大 (D)所處緯度較低

6.附圖為中國已興建或規畫中的油氣管道，其中某一管道途經高山峻嶺、溼熱叢林、地震活躍帶、發達的石灰岩地形，並跨越多條國際河流，因此建設難度相當高。該管道應為圖中何者？【107 會考】

- (A)甲 (B)乙 (C)丙 (D)丁



表(一)

地區 \ 宗教信仰者	甲	乙	丙	丁
歐洲	25.7	2.7	0.1	0.3
北美洲	12.3	0.2	0.2	0.8
中南美洲	24.4	0.1	<0.1	0.1
撒哈拉以南非洲	23.8	15.5	0.2	<0.1
中東和北部非洲	0.6	19.8	0.2	0.1
亞洲及太平洋地區	13.2	61.7	99.3	98.7
合計	100.0	100.0	100.0	100.0

單位：%

7. 世界主要宗教有基督教、佛教、印度教和伊斯蘭教。表(一)為 2010 年上述各宗教的信仰者在世界各地分布的百分比，表中何者為穆斯林？【107 會考】

- (A)甲 (B)乙 (C)丙 (D)丁

課後補充



印度種姓制度



印度聖河恆河

