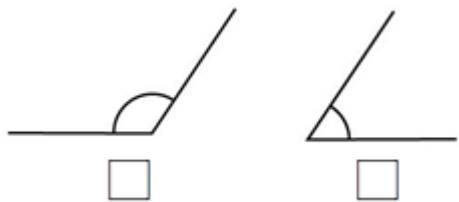
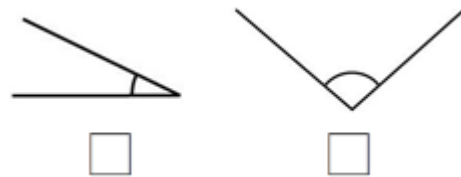


(1) 比比看，哪個角比較大？在□裡打√。



(2) 比比看，哪個角比較大？在□裡打√。



(3) 下面的圖形內，有幾個角？()個

哪個角最大？(∠)

哪個角最小？(∠)



(4) 將下面的角由大到小寫下來。



() > () > () > ()

(5) 下面的圖形內，有幾個角？()個

角由大到小是

(∠) > (∠) > (∠)



(6) 比比看，哪個角比較大？在()裡打√。

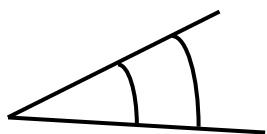


()



()

(7) 比較兩個角的大小，在□中填上>、<或=。



∠1 □ ∠2

(8) 比較右邊兩個角的大小，在□中填上>、<或=。

∠1 □ ∠2

