

2
上

單元學後檢測卷

2 量長度

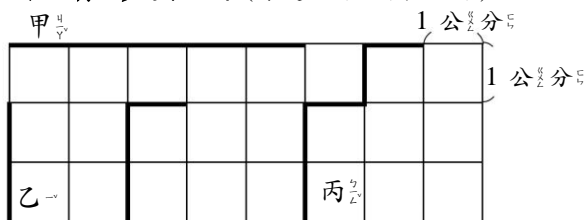
得分

年 班 號

姓名：_____

一、一格長為 1 公分，數數看，繩子

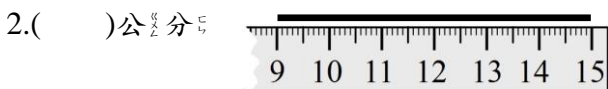
各有多長？(每題 5 分，共 15 分)



1. 甲繩的長度是()公分。
2. 乙繩的長度是()公分。
3. 丙繩的長度是()公分。

二、線有多長，填在()裡。

(每題 5 分，共 10 分)




三、做看。(每個答案 6 分，共 30 分)

1. 從黑點開始，畫出指定長度。

(1) 6 公分

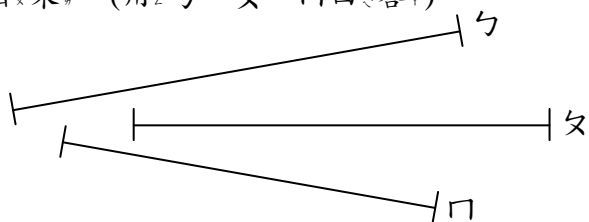


(2) 比 7 公分長比 8 公分短



2. 量一量，按照順序由短到長排

出來。(用 \hookrightarrow 、 \leftarrow 、 \square 回答)



短 \rightarrow () \rightarrow () \rightarrow () \rightarrow 長

四、填看。(每題 5 分，共 25 分)

1. 圍巾和 13 枝鉛筆一樣長，也和 16 枝造型棒一樣長，鉛筆和造型棒，哪個比較長？()比較長。

2. 小芬量餐桌的高，用紅繩量了 15 次，用藍繩量了 13 次，哪條繩子比較短？()比較短。

3. 大明用一把斷掉的尺量一枝鉛筆的長，一端在刻度 3，另一端在刻度 11，鉛筆長()公分。

4. 克民用尺量水果叉的長，一端在刻度 0，另一端在刻度 9 和 10 之間，比較靠近刻度 9，可以說水果叉大約長()公分。

5. 美美用尺量木棒長，先量了 15 公分，剩下部分再用尺再量長 11 公分，木棒總長()公分。

五、用算式記。(每題 10 分，共 20 分)

1. 一根木棒長 17 公分，另一根木棒長 9 公分，把兩根木棒接起來一共長幾公分？

2. 小芬把一條長 19 公分的繩子剪成兩段，一段長 6 公分，另一段長幾公分？