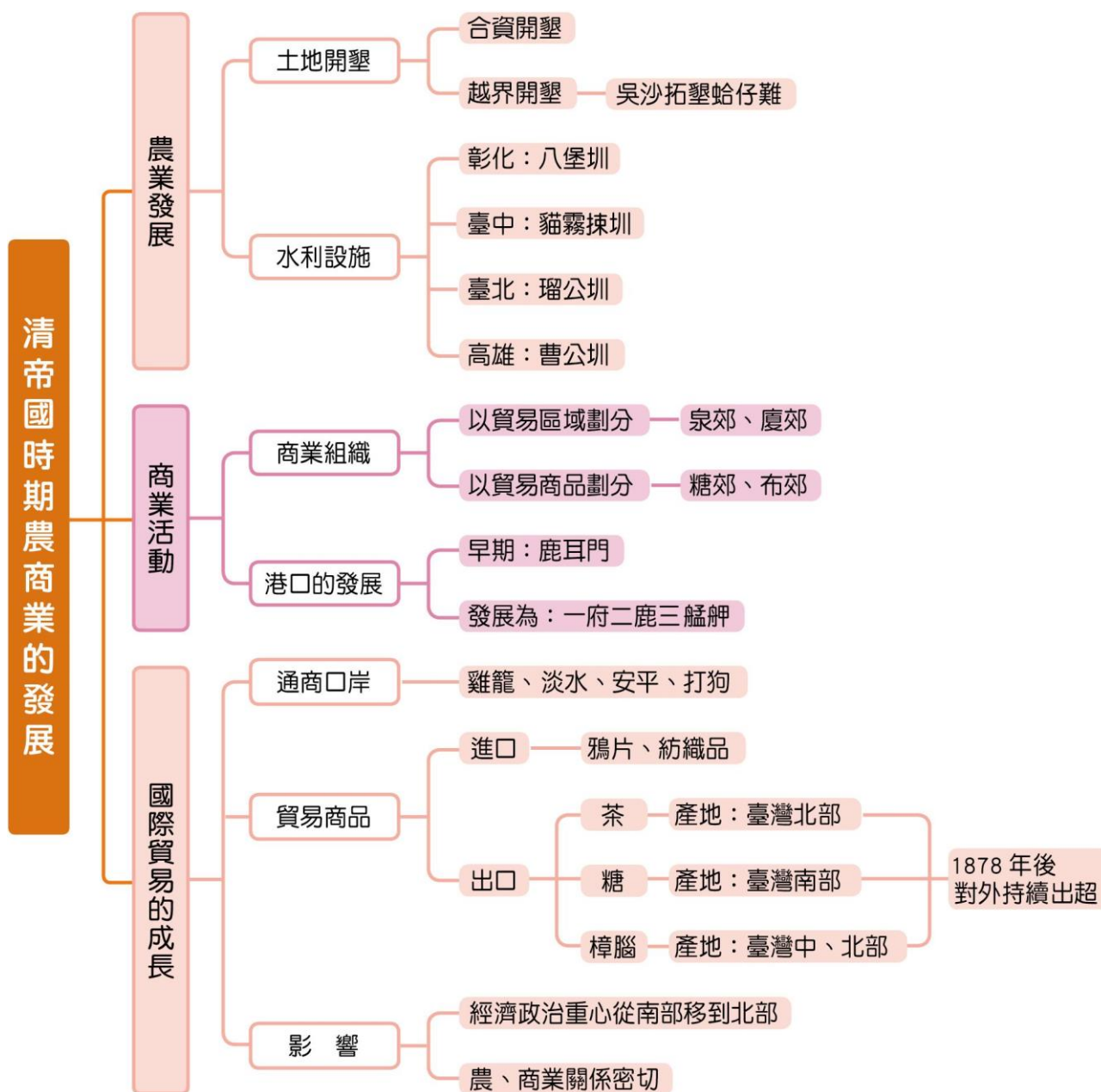


# 第5章

## 清帝國時期農商業的發展



### 一 本章概要 >>



## 歷史舞臺

### 1. 農業發展：

(1) 發展動力：漢人移民大增、大量開墾土地、興築水利設施。

(2) 發展成果：

- ① 農作物產量大幅提高。
- ② 自給有餘，並可大量銷往中國。

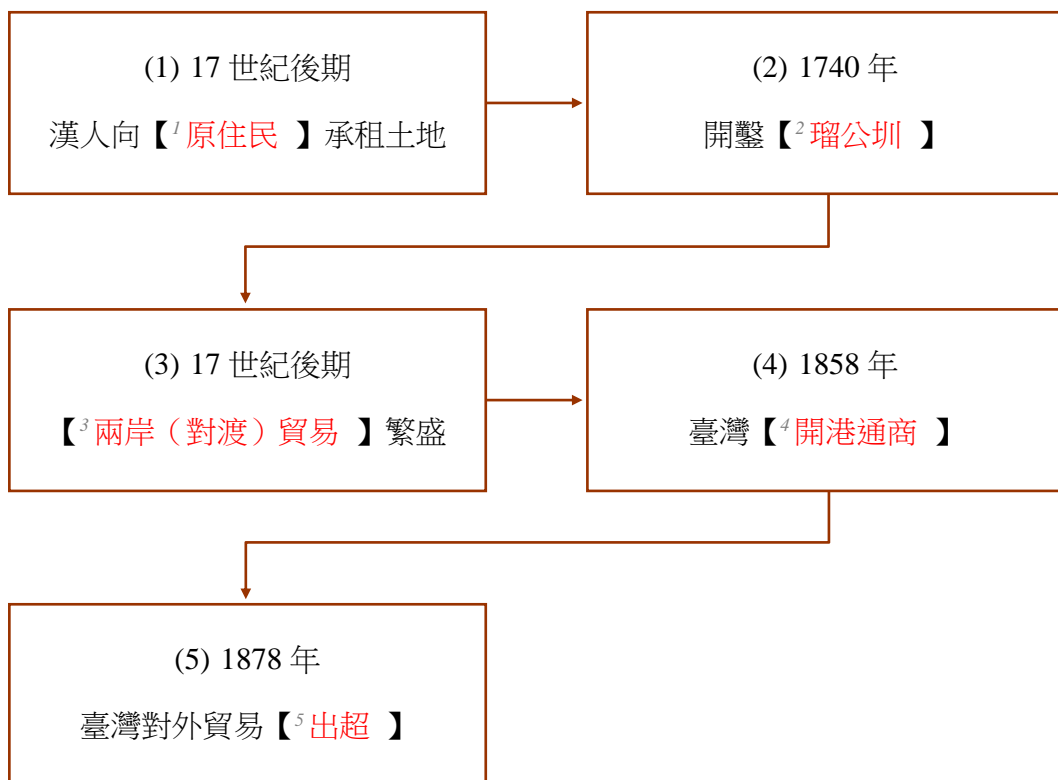
### 2. 商業發展：

(1) 臺灣經濟發展趨勢呈現出農、商關係緊密的特質。

(2) 兩岸對渡貿易繁盛，出現郊商組織。

(3) 開港之後，茶、糖、樟腦出口，國際貿易日益頻繁。

### 3. 時光隧道：



### 4. 宣言發表：

對話者：(A)漢人、(B)原住民、(C)外國人

對話身分：(D)開墾者、(E)地主、(F)商人

請判斷下列宣言，應該搭配什麼身分組合：

- (1) 「臺灣的出口值大於進口值了，我們賺大錢了」，【<sup>6</sup> A+F 】。
- (2) 「有了這水利設施，我們的收成就可以變多了」，【<sup>7</sup> A+D 】。
- (3) 「我們現在主要經商的對象是外國洋商。」，【<sup>8</sup> A+F 】。
- (4) 「我們主要經商的區域是以對岸為主。」，【<sup>9</sup> A+F 】。
- (5) 「我把土地租給你，我們用新港文簽地契吧」，【<sup>10</sup> B+E 】。

## 5-1 農業發展

### 一、務農營生

背景	清帝國時期，渡海來臺的移民多以務農營生，主要種植【 <sup>1</sup> 水稻】與【 <sup>2</sup> 甘蔗】				
土地開墾	番地	無主地			
	漢人可向原住民【 <sup>3</sup> 承租】番地	漢人可向政府申請【 <sup>4</sup> 墾照】			
開墾	由於開墾需要大筆資金，所以【 <sup>5</sup> 合資】開墾的情形相當普遍，墾戶按股份分配土地，留下不少地名，例如：臺南市七股區、苗栗縣頭份市等				
水利設施	開墾漢人為取得灌溉水源，多以【 <sup>6</sup> 合資】經營方式興建水利設施，清代的水圳分布如下：				
	項目	【 <sup>7</sup> 八堡圳】	【 <sup>8</sup> 貓霧揀圳】	【 <sup>9</sup> 瑠公圳】	【 <sup>10</sup> 曹公圳】
	時間	康熙年間	雍正年間	乾隆年間	道光年間
	興建者	施世榜集資興建	張達京與原住民合作	郭錫瑠父子開墾	鳳山知縣曹謹
	灌溉區	彰化地區	臺中盆地	臺北盆地	高雄地區
	特色	清代全臺規模最大的水利工程	漢人與原住民合作	當時臺北盆地最重要的灌溉渠道	官方主導
水圳灌溉面積廣大，使水田面積大幅增加，稻米、甘蔗產量大增，不但可以自足且能輸往中國大陸					

<p><b>瑠公圳</b></p> <p>時間：18世紀中期（乾隆年間）</p> <p>興建者：郭錫瑠父子</p> <p>地區：臺北盆地</p> <p>特色：臺北地區最重要的灌溉渠道</p>		<p><b>貓霧揀圳</b></p> <p>時間：18世紀前期（雍正年間）</p> <p>興建者：張達京</p> <p>地區：臺中盆地</p> <p>特色：漢人與原住民合作修築</p>
<p><b>八堡圳</b></p> <p>時間：18世紀前期（康熙年間）</p> <p>興建者：施世榜</p> <p>地區：彰化平原</p> <p>特色：清代灌溉規模最大的水圳</p>		<p><b>曹公圳</b></p> <p>時間：19世紀前期（道光年間）</p> <p>興建者：鳳山知縣曹謹</p> <p>地區：高雄市</p> <p>特色：官方主導興建的水圳</p>

▲ 清代臺灣重要水利設施分布圖

### 二、開墾衝突

- 漢人自行占有無主地，或巧取、強占原住民土地的情形也常發生。
- 漢人移民也不時違禁越過「番界」開墾。清廷雖多次重定「番界」，希望區隔漢人與原住民，以避免爭端或動亂，但成效有限。18世紀末吳沙墾拓【<sup>11</sup>蛤仔難】，就是越界開墾的實例。

## 5-2 商業活動

### 一、貿易發展

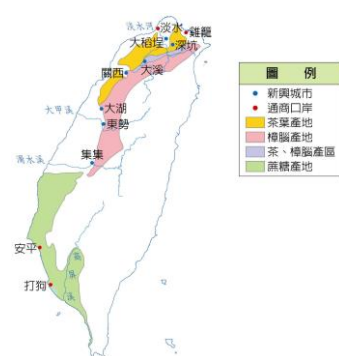
貿易對象	以【 <sup>1</sup> 中國大陸】為主		
貿易商品	出口	稻米、蔗糖	
	進口	【 <sup>2</sup> 紡織品】、【 <sup>3</sup> 藥材】、其他日用品	
商業組織	郊	隨著商業的興盛，臺灣商人為了配運貨物、控制商品價格與避免惡性競爭，形成「郊」	
	類型	依貿易【 <sup>4</sup> 區域】劃分	泉郊、廈郊
		依貿易【 <sup>5</sup> 商品】劃分	糖郊、布郊
貿易港口	1. 清初以【 <sup>6</sup> 鹿耳門】為唯一合法的港口（正港） 2. 隨著中、北部的開發，【 <sup>7</sup> 鹿港】、【 <sup>8</sup> 八里坌】等港口相繼開放 3. 後來府城（今臺南市）、鹿港（今彰化縣鹿港鎮）、艋舺（今臺北市萬華區）逐漸發展成臺灣三大貿易港口，因此有【 <sup>9</sup> 一府二鹿三艋舺】的說法		

### 二、開港通商後的國際貿易

商業組織	西方人在口岸設立洋行，掌控臺灣的進出口貿易				
進口商品	鴉片、紡織品				
出口商品	品項	產地	出口港口	銷售地	價值
	茶	臺灣北部	通常在【 <sup>10</sup> 大稻埕】（今臺北市大同區）加工後，由【 <sup>11</sup> 淡水】出口	美國、東南亞	
	糖	臺灣南部	【 <sup>12</sup> 安平】或【 <sup>13</sup> 打狗】	中國大陸、日本	
	樟腦	臺灣中、北部	【 <sup>14</sup> 淡水】	歐美各國	產量曾居世界第一
影響	1. 清代臺灣的對外貿易自 1878 年以後一直維持【 <sup>15</sup> 出超】 2. 由於銷往海外的【 <sup>16</sup> 茶】與【 <sup>17</sup> 樟腦】位於北部地區，臺灣的政治、經濟重心從原先的南部，逐漸轉移到北部				
農商關係	1. 自開港通商以來，臺灣北部的茶、糖、樟腦等農產商品多銷往海外 2. 從荷蘭時期開始，臺灣的農產品除部分提供自用外，大多以出口貿易為主；農民也習於透過貿易獲利，具有 <b>重商趨利</b> 的性格 3. <b>農、商業關係的緊密性</b> ，為臺灣經濟的一大特點				



▲ 臺灣與中國大陸對渡港口示意圖



▲ 開港通商後臺灣產業與新興城鎮分布

## 5-1 農業發展

- (B) 農業開墾必須有灌溉設施的配合，才能使荒地變成良田。下列有關臺灣在清帝國時期，修築完成的水利灌溉工程及其灌溉區域的配對，何者正確？
  - 臺北地區→八堡圳
  - 鳳山縣城、打狗一帶→曹公圳
  - 臺中盆地→瑠公圳
  - 濁水溪沿岸→貓霧揀圳。
- (C) 豪豪跟著爸媽一同到臺中遊玩，發現一個很特別的地名，叫做「土牛」。豪豪好奇的問爸爸這個地名是什麼意思，爸爸應該要如何回答？
  - 這是原住民居住的部落名稱
  - 這裡以前是殺牛的屠宰場
  - 這裡以前設有隔離漢人與原住民的界線
  - 這裡的山遠遠看過去就像一頭牛一樣。
- 筱筠帶著由英國遠道而來的艾莉絲暢遊臺灣，行程表如附表。請問：

第一天	逛九份老街吃芋圓
第二天	借住花蓮十六股同學家，參訪「延平王廟」
第三天	到高雄左營龍虎塔觀光
第四天	去臺南林鳳營體驗擠牛奶的樂趣
第五天	在官田賞花海，並到七股鹽田吃鹹冰棒

- (D) (1) 她們參訪的地名由來，與下列何者最有關連？
  - 依照地形狀況命名
  - 沿用音譯的原住民語
  - 由港口發展成的商業市鎮
  - 因各時期土地開發而得名。
- (A) (2) 附表中的「左營」、「林鳳營」，顯示何種意義？
  - 軍屯配置所在地
  - 官墾所在之地
  - 孔廟建設之處
  - 對外貿易港口。
- (A) (3) 附表中「九份」、「七股」、「十六股」等地名的產生，與新竹北埔「金廣福」墾號相同，反映清帝國時期的何種現象？
  - 漢人採合股經營方式拓墾土地
  - 漢人以武裝暴力搶奪原住民土地
  - 「墾號」無須向官府申請「墾照」，也能合法拓墾
  - 漢人向原住民承租，或娶平埔族女子，合法取得土地。

4. (B) 附表是臺灣史上各個時期的人口數統計表。從表中資料判讀，1680~1860 年間人口數的增加，應與下列哪一因素最相關？

年代	1650	1680	1756	1860	1895	1945	1958
人口(萬)	10	20	66	200	300	600	1000

- (A) 鄭成功率領軍民來臺  
 (B) 漢人移民與偷渡者的湧入  
 (C) 政府解除渡臺禁令  
 (D) 中國境內內戰不斷。

5. 附圖是清代在臺灣所興築的水利設施，請填入與水圳位置相配的代號：

- (1) 瑠公圳：【 甲 】。  
 (2) 八堡圳：【 丙 】。  
 (3) 曹公圳：【 丁 】。  
 (4) 貓霧揀圳：【 乙 】。



6. (D) 清代，由於漢人移民時常違例越過番界開墾，即使官方屢次重定番界，希望區隔漢人與原住民，以避免治安問題或漢番衝突的事件發生，但是成效有限。下列哪一地區的開墾正足以說明此一情形？
- (A) 臺北盆地  
 (B) 嘉南平原  
 (C) 埔里盆地  
 (D) 宜蘭平原。

## 5-2 商業活動

1. (C) 某港口在荷治時期與鄭氏時期已經是臺灣與島外的運輸貿易中心。1683 年，清帝國時期，此處成為臺灣對外的唯一「正口」，所有來往中國、日本、南洋的船隻均須取道於此，當時臺灣盛產蔗糖，商船運載出入，也多經此地輸往日本、菲律賓等地。此重要港口位於附圖中的何處？

(A)甲 (B)乙 (C)丙 (D)丁。



2. (B) 歷史課上，同學們在討論清代臺灣的郊商，請根據討論的內容判斷，哪一位同學的說法正確？

(A) 隨著臺灣人口增加，海外貿易日漸擴大，而興起從事海外貿易的商人。



(B) 此為一種商業組織，在當時的重要市鎮中郊商林立。



(C) 由貿易地相同的商人所組成的有糖郊、布郊等。

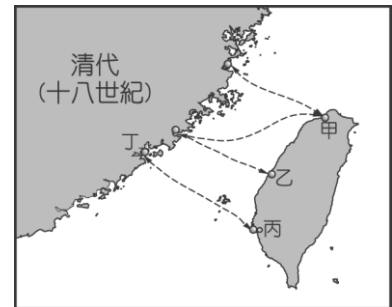


(D) 由從事特定商品買賣的商人組成的有泉郊、廈郊等。



3. (C) 附圖是臺灣與中國大陸對渡港口示意圖。請問：關於圖中各港口說明，下列何者正確？

- (A)甲乙丙三個港口開放的順序，顯示臺灣開墾方向是由北向南發展  
 (B)丙港口附近的農地屬於貓霧揀圳灌溉範圍  
 (C)乙港口原本歸諸羅縣管理，後來改歸彰化縣管理  
 (D)甲港口是當時最早合法開放與中國大陸貿易的港口。



4. (C) 臺灣某地方志記載：「街衢縱橫，皆有大街，長三里許，泉廈郊商居多。舟車輻湊，百貨充盈。」到了 20 世紀初，這座位於臺灣中部的城市已告衰落，盛況不再。這是指下列哪一個城市？

(A)八里坌 (B)打狗 (C)鹿港 (D)艋舺。

5. 清帝國前期，臺灣在經濟上有長足的進步，蓬勃發展。請問：

(C) (1) 當時臺灣的對外貿易中，與哪一地區的貿易往來最頻繁？

(A)英國 (B)荷蘭 (C)中國大陸 (D)日本。

(D) (2) 從荷治時期到清帝國前期，一直都是臺灣重要的出口商品為何？

(A)樟腦 (B)茶葉 (C)鹿皮 (D)蔗糖。

6. 臺灣在 18 世紀以後，由於商業發展，行郊組織興盛。例如：「泉郊金長順」、「廈郊金振順」等，是當時最具代表的組織之一。請問：

(A) (1) 所謂「泉郊」和「廈郊」是以什麼條件作為區分？

(A)不同的貿易區域 (B)不同的貿易商品

(C)同一地區的貿易商 (D)相同的祖籍。

(D) (2) 當時的行郊組織不可能出現在清帝國時期的臺灣何地？

(A)臺南 (B)鹿港 (C)艋舺 (D)噶瑪蘭。

7. (C) 清帝國後期，茶葉成為臺灣重要的出口作物之一。關於當時臺灣茶葉的敘述，下列何者正確？
- (甲)為當時出口商品貿易額的第二位 (乙)以打狗為出口港  
 (丙)主要銷往東南亞、美國等地 (丁)產地在臺灣北部的丘陵地區  
 (A)甲乙丙丁 (B)乙丙丁 (C)丙丁 (D)甲丁。

8. (C) 關於清帝國時期的「郊」與「洋行」之敘述，下列何者正確？
- (A)郊產生於臺灣開港通商之後  
 (B)郊是由外國使節和臺灣商人共同組成  
 (C)洋行設立在臺灣各通商口岸  
 (D)洋行在臺灣開港後漸漸沒落。

9. (C) 附表是清帝國後期某段時期臺灣進出口值統計表。請問：表中哪一年開始，反映出臺灣對外貿易由入超轉變為出超？

期間	出口	進口
	年平均値	年平均値
1868 ~ 1869	93.0	124.5
1870 ~ 1874	172.0	174.4
1875 ~ 1879	282.3	272.0
1880 ~ 1884	427.3	318.8
1885 ~ 1889	435.7	361.8
1890 ~ 1894	570.7	431.0

- (A)1868~1869 (B)1870~1874 (C)1875~1879 (D)1890~1894。

10. (D) 小豪選了一門「19世紀中葉後的臺灣發展史」的課程，與同學決定以當時臺灣的對外貿易發展作為期末報告。請問：小豪這組同學所蒐集的資料，下列何者正確？
- (A)甲 (B)乙  
 (C)丙 (D)丁。

(甲)安安	此時為清帝國前期
(乙)典學	臺灣開放鹿港、淡水兩港通商
(丙)建偉	為防海盜，實施海禁
(丁)勝鈞	鴉片為此時進口大宗

11. (B) 小天到高雄西子灣旅遊，他發現西子灣除了擁有山海美景外，並有一座「打狗英國領事館」的建築物。請問：此一領事館的興建，是因為19世紀中葉，清帝國在哪一場戰爭失敗後才出現的？
- (A)鴉片戰爭 (B)英法聯軍 (C)清法戰爭 (D)甲午戰爭。

12. 正確配對開港通商後出口物產與輸出港口、主要銷售地區、產地。

(甲)淡水 (乙)打狗 (丙)美國 (丁)中國大陸 (戊)東南亞  
 (己)日本 (庚)歐、美各國 (辛)北部 (壬)中、北部 (癸)南部

- (1) 茶：【 甲丙戊辛 】。  
 (2) 糖：【 乙丁己癸 】。  
 (3) 樟腦：【 甲庚壬 】。



13. 請將臺灣歷史上的古地名與今日的地名相配對。(請填入代號)

(甲)府城 (乙)旗後 (丙)雞籠 (丁)打狗 (戊)後山 (己)艋舺 (庚)諸羅

(1) 臺北萬華區：【 己 】。

(2) 基隆：【 丙 】。

(3) 嘉義：【 庚 】。

(4) 臺南安平區：【 甲 】。

(5) 旗津：【 乙 】。

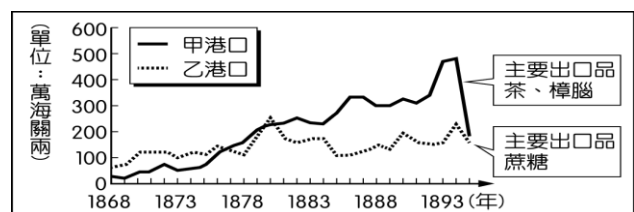
(6) 高雄：【 丁 】。

(7) 東部：【 戊 】。

#### 四 大考試題演練

1. (D) 清朝統治時期，臺灣興築許多大規模的水圳，如鳳山曹公圳、彰化八堡圳、臺北瑠公圳等。當時修築水圳的主要原因為何？【98 基測】  
 (A)地層下陷嚴重，舊有河川枯竭 (B)土地不當開發，水源遭受汙染  
 (C)工業用水不足，提供穩定水源 (D)擴大灌溉面積，增加農業產量。
2. (A) 臺灣的開發是由南而北，但清領時代後期已有北勝於南的傾向，這種情勢的轉變，主要與哪一項作物的增產及外銷有關？【90 基測】  
 (A)茶葉 (B)樟腦 (C)蔗糖 (D)稻米。
3. (C) 「臺灣在戰後再度進入國際貿易市場，海關、領事館等機構正式出現。不僅各國商人可以到通商口岸做買賣，西洋傳教士也能自由進出傳教，馬偕牧師即為著名代表之一。」上述現象發生於臺灣哪一時期？【97 基測一】  
 (A)荷蘭統治時期 (B)鄭氏統治時期  
 (C)清朝統治後期 (D)日本統治時期。

4. (A) 附圖為臺灣某時期兩大港口的海關出口值統計圖。由圖中內容判斷，甲港口最可能位於臺灣何處？【102 基測】  
 (A)北部 (B)中部  
 (C)南部 (D)東部。



5. (A) 十九世紀中葉，臺灣的茶葉外銷量迅速增加，還吸引了外來的資金和技術到臺灣。若想了解當時臺灣茶葉出口的詳細情形，最適合參閱下列何項資料？【102 基測】  
 (A)淡水海關報告 (B)熱蘭遮城日誌  
 (C)劉銘傳回憶錄 (D)沈葆楨日記。
6. (A) 以下是某書對臺灣的描述：「此時期臺灣居民不得與外國往來，而且統治者為了管制移民、稽查海盜，還限定臺灣與中國大陸的對渡港口。當時臺灣所輸出的稻米幾乎全部銷往福建及其附近地區，糖則主要運銷華中、華北和東北。」此時期由負責上述貨物運銷的商人所自行組成的組織，最可能是下列何者？【105 會考改】  
 (A)郊 (B)洋行  
 (C)荷蘭東印度公司 (D)金廣福墾號。
7. (A) 附表是臺灣開港通商後，部分洋行在臺的營運狀況。若考慮當時商品產區與出口地，這些洋行最可能皆設置於附圖中何處？【107 會考】

名稱	主要出口商品
寶順洋行	茶
美利士洋行	樟腦
公泰洋行	樟腦
費爾·哈士迪斯洋行	樟腦、煤



- (A)甲 (B)乙 (C)丙 (D)丁。