


風從哪裡來

(配合第2單元)

下面哪些現象可以察覺到風的存在？請打√：




①風箏在空中飛揚。

②旗竿上的國旗下垂不動。

③點燃的線香，煙往右飄散。

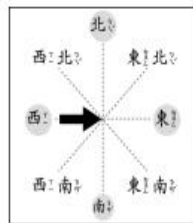
④風車轉動。

⑤小草靜止不動。



請寫出下圖的風向：

①



() 風

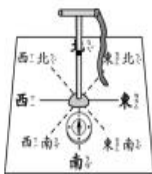
②



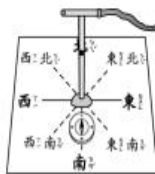
() 風

把風力最強的打√，風力最弱的打×：

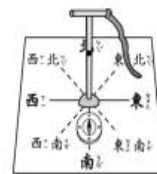
①



②



③



給小朋友的話

記錄風向和風力時應該包含的項目有日期、地點、時間、風向和風力。



年 班 號 姓名：

家長簽章：