

附圖為四個假想的國家位置圖。先判斷位於哪一個半球。

甲 乙

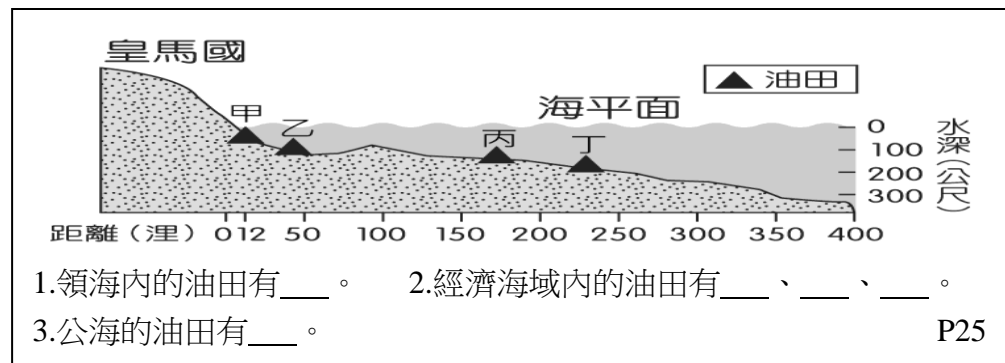
丙 丁

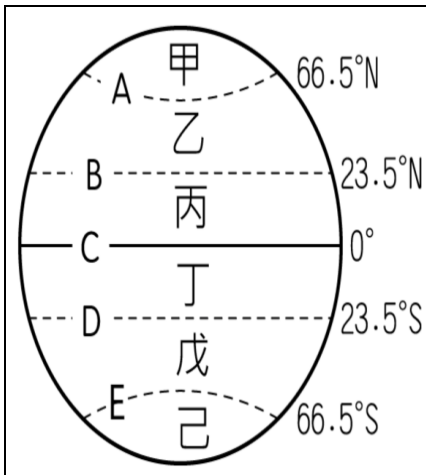
- 哪一地區大部分位於西半球、南半球上？_____
- 哪些地區大部分位居熱帶氣候區？____、____
- 哪些地區多屬於溫帶氣候區？____、____
- 哪一地區所在的緯度最高？_____
- 哪一地區經緯度位置與臺灣相似？_____

P11

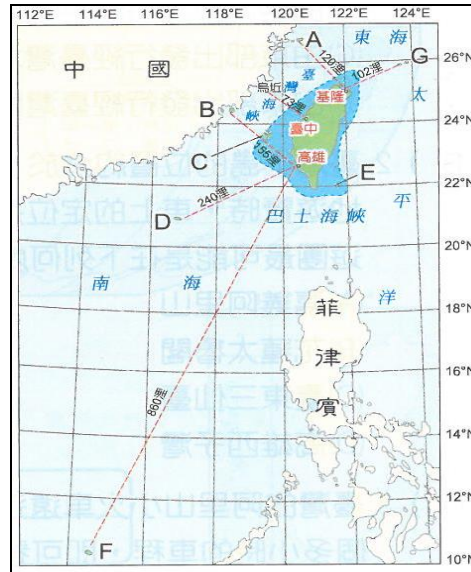
- 方向為南北向。_____ (2) 長度均一樣長。_____
- 最大度數為 180°。_____ (4) 方向為東西向。_____
- 最大度數為 90°。_____ (6) 度數越高，長度越長。_____
- 赤道以及與赤道平行的圓圈線。_____
- 連結南、北兩極的弧線。_____
- 連結與南、北兩極等距離的點，所形成的線稱為_____。

P11



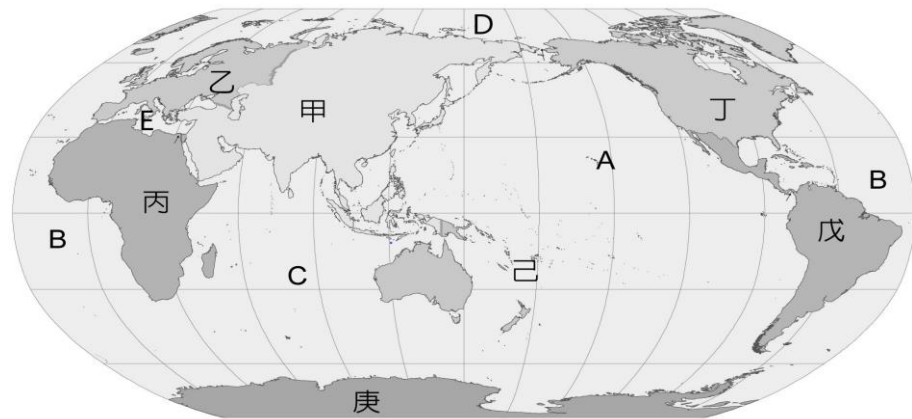


1. 熱帶氣候是哪二區__、__
2. 溫帶氣候是哪二區__、__
3. 寒帶氣候是哪二區__、__
4. 劃分熱帶、溫帶是哪二條線__、__
5. 劃分溫帶、寒帶是哪二條線?__、__
6. 劃分南、北半球是哪一條線__
7. 夏至時，太陽直射哪一條線__
8. 冬至時，太陽直射哪一條線__
9. 經過台灣本島的是哪一條線__ P13



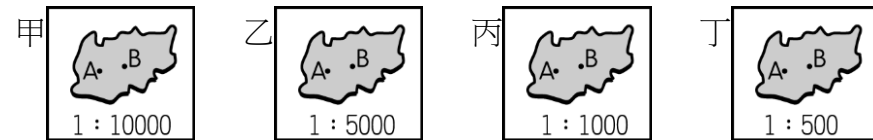
1. 主權有爭議及糾紛? __、__、__
2. 釣魚台(基隆東北方)___
3. 馬祖(基隆西北方)___
4. 澎湖(高雄西北方)___
5. 金門(高雄西北方)___
6. 東沙島(高雄西南方)___
7. 太平島(高雄西南方)___
8. 蘭嶼(台東市東南方)___

P24



1. 面積最大、人口最多的是哪一洲? ___
2. 面積第二大的是哪一洲? ___
3. 台灣位於哪一洲? ___
4. 北回歸線可能經過哪些洲? __、__、__
5. 橫跨南、北半球有哪些洲? __、__、__
6. 全球最大陸塊是哪二洲相連? __、__
7. 歐、亞、非三洲圍繞的海域為何? ___

P21



1. 面積最大___
2. 面積最小___
3. 電子地圖上的國道1號97公里處到98公里處相距10公分，此時螢幕上地圖的比例尺為_____。
4. 比例尺1:10000的地圖，地圖上5公分，實際距離_____公里。

P15

1. 臺灣唯一不臨海的縣_____
2. 臺灣本島緯度最低(最南)的縣_____
3. 臺灣本島有北回歸線界碑的縣_____、_____
4. 臺灣四面環海的縣_____、_____、_____

P15