


一、一共有幾隻青蛙？寫出加法

法算式：每格2分，共18分



1. 
 $2 + \bigcirc = \bigcirc$

2. 
 $\square + \bigcirc = \bigcirc$

二、一共有多少個？對的打√：每小


題2分，共8分

1. ①  $0 + 3 = 3$ ()
 ②  $0 + 2 = 3$ ()

2. ①  $5 + 4 = 8$ ()
 ②  $5 + 3 = 8$ ()

三、看圖填填看：每格2分，共24分

1. 完成加法算式。
 ① 
 $() + 2 = ()$
 共有()塊蛋糕。

② 
 $6 + () = ()$
 共有()隻小鳥。

2. 

① 有()條魚，有()條魚。

② 一共有幾條魚？寫出加法算式。
 $() + () = ()$
 一共有()條魚。

四、畫○算算看：每題4分，共16分

1. $3 + 4 = ()$ 2. $4 + 0 = ()$

3. $2 + 2 = ()$ 4. $4 + 6 = ()$

五、把兩個數加起來是10的

連起來：每線2分，共10分

①	②	③	④	⑤
2	3	5	6	9

• • • • •
• • • • •


ㄅ	ㄆ	ㄇ	ㄏ	ㄏ
1	4	5	7	8

六、寫出算式做做看：每題6分共24分

1. 桌上有7顆蘋果，又放上3顆，桌上一共有幾顆蘋果？

算式：
 一共有()顆蘋果。

2. 籃子裡有4顆籃球，再放進2顆，全部有幾顆籃球？

算式：
 全部有()顆籃球。

3. 小智昨天蓋了3個好棒章，今天蓋了5個好棒章，兩天她共蓋了幾個好棒章？

算式：
 她共蓋了()個好棒章。

4. 鉛筆盒裡有2塊橡皮擦，3枝紅筆和3枝鉛筆，鉛筆盒裡一共有幾枝筆？

算式：
 一共有()枝筆。