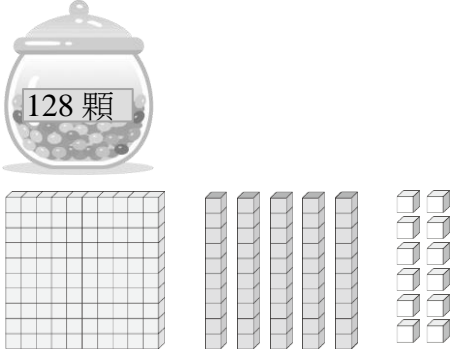


數學 範圍：_____

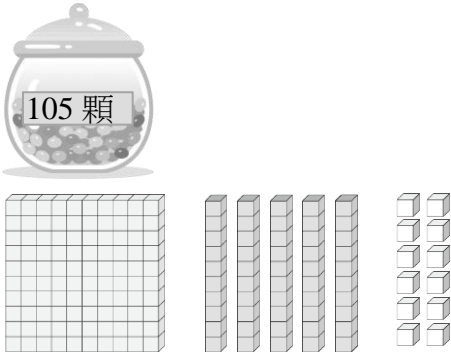
年 _____ 班 座號：_____ 姓名：_____

一、圈圈看：(每個答案 0 分，共 0 分)

1. 圈出和罐子裡糖果一樣的數量。



2. 圈出和罐子裡糖果一樣的數量。



二、畫畫看，做做看：(每個答案 0 分，共 0 分)

1. 用尺畫一條長 7 公分的直線。

2. 下面的物品是多少元？

用 $\boxed{100}$ 、 $\textcircled{10}$ 或 $\textcircled{1}$ 的圖，把你的付法畫下來。




153 元

三、量量看，再回答問題：(每個答案 0 分，共 0 分)

1. 用尺量量看，有多長？



2. 用尺量量看，有多長？



四、比比看：(每個答案 0 分，共 0 分)

1. $158 \square 152$



2. $172 \square 127$

五、填填看：(每個答案 0 分，共 0 分)

1. $143 \rightarrow 133 \rightarrow () \rightarrow ()$

2. 101 讀作()。

六、看圖回答問題：(每個答案 0 分，共 0 分)

1. 10 條  和 1 張  一樣多嗎？
 一樣多 不一樣多

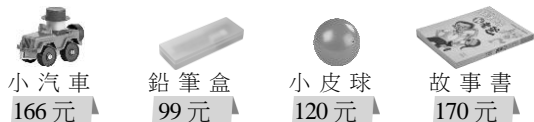
2. 數數看，撲滿裡有多少元？



()元

可以買下面什麼東西呢？()或

()



七、看表填填看：(每個答案 0 分，共 0 分)

1. 1 個百、4 個十和 3 個一合起來是多少？
把答案記在定位板上。

百位	十位	個位

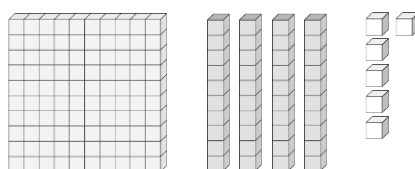
2. 13 個十和 8 個一合起來是多少？把答案記在定位板上。

百位	十位	個位

八、看圖填填看：(每個答案 0 分，共 0 分)

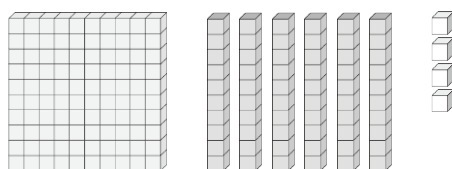
1. 他們各有幾顆糖果？

(1) 妙妙



()顆

(2) 奇奇



()顆

2. 分別用下面 2 種不同長度的鉛筆量同一張桌子的高度。



用()鉛筆量，量的次數比較少。