


一.請在時鐘上畫出正確的整點時間

① 8 點鐘



② 10 點鐘




③ 4 點鐘




④ 6 點鐘



⑤ 12 點鐘



⑥ 1 點鐘



⑦ 7 點鐘



⑧ 3 點鐘



⑨ 9 點鐘



二、請寫出正確的時分

①



( ) 點 鐘

②



( ) 點 鐘

③



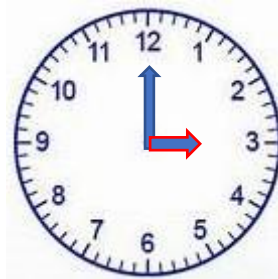
( ) 點 鐘

④



( ) 點 鐘

⑤




( ) 點 鐘

⑥




( ) 點 鐘

⑦



( ) 點 鐘

⑧



( ) 點 鐘

⑨



( ) 點 鐘