

第5單元

分類與統計

活動 1 先大分類再小分類

1 請 你 幫 字 翔 整 理 衣 物 ， 把 這 些 衣 物

做 分 類 。

附 件 9



1 說 說 看 ， 你 是 怎 麼 分 的 ？



我 分 成 衣 服 和 褲 子 兩 類 。



1 請你幫字翔整理衣物，把這些衣物做分類。

1 每一類還可以再怎麼分呢？



衣服可以再分成短袖和長袖；

褲子可以再分成短褲和長褲。



還有不同的分法嗎？

② 奇_レ奇_レ把_カ分_カ類_カ後_カ的_カ結_カ果_カ記_カ錄_カ下_カ來_カ。



說說看看，他是怎麼分類的？

先分成衣服和褲子，衣服再分成長袖和短袖，褲子再分成長褲和短褲。

③ 看上面的分類紀錄回答問題。

衣服全部有 件，短袖有 件；
褲子全部有 件，長褲有 件。



④ 媽媽又幫宇翔買了下面這兩件衣物。說說看，這兩件要怎么歸類呢？



歸類到長袖





歸類到短褲

2 下面這些圖卡要怎麼分類？ 附件 10




1 可以先把這些圖卡分成幾類？

我用顏色分成兩類。



我用形狀分成三類。



2 每一類還可以再怎麼分呢？



我再用形狀分類。



我再用顏色分類。

③ 下面是 豆 豆 的 分 類 紀 錄 。







藍色			黃色		
正方形	三角形	圓形	正方形	三角形	圓形
					

說說看，他是怎麼分類的？







先分顏色，再分形狀。

④ 看上面豆 豆 的 分 類 紀 錄 回答問題。

1 藍色圖卡一共有 **9** 張。

藍色圖卡中：
 ( ,  , ) 數量最多，
 ( ,  , ) 數量最少。

2 黃色圖卡一共有 **6** 張。

黃色圖卡中：
 ( ,  , ) 數量最多，
 ( ,  , ) 數量最少。

3 全部有 **15** 張圖卡。

