








活動 | 合起來是多多少少

1 盤子上有 3 個  和 2 個 ，合起來有幾個餅乾？ 附件 1

算式：

$$\boxed{3} + \boxed{2} = \boxed{5}$$

1	2	3	+	1	2
			+		
1	2	3		4	5

用算式可以怎麼記呢？

$$3 + 2 = 5$$

+ 是加號，= 是等號。

$3 + 2 = 5$ 是一個加法算式，讀作「三加二等於五」。



說說看，算式中，(學生回答合理即可)

3 表示什麼？ 3 表示有 3 個粉紅色餅乾

2 表示什麼？ 2 表示有 2 個咖啡色餅乾

5 表示什麼？ 5 表示合起來有 5 個餅乾




② 烤盤上有 4 個螺旋麵包和 3 個章魚麵包，全部有幾個麵包？



畫○表示麵包。



共有 7 個麵包。



共有 7 個麵包。

算式：

+

=

1	2	3	4		1	2	3
○	○	○	○	+	○	○	○
1	2	3	4		5	6	7

3 盆子裡已經打了5顆蛋，再打2顆，全部打了幾顆蛋？



共有7顆蛋。

5再往上數2個數，6、7，共有7顆蛋。

算式: + =

1	2	3	4	5		1	2
○	○	○	○	○	+	○	○
1	2	3	4	5		6	7



做做看

掛勾上共有 1 隻藍色手套和 4 隻粉紅色手套，
共有幾隻手套？

算式： + =

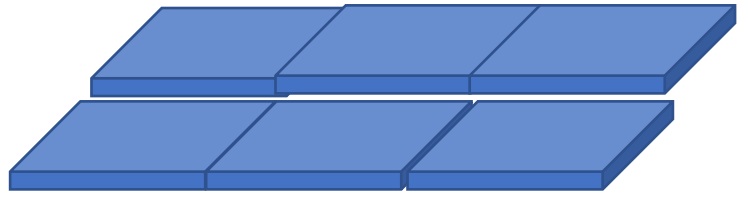
1	2	3	4		1
○	○	○	○	+	○
1	2	3	4		5

算式： + =

1	2	3	+	1	2	3
🌸	🌸	🌸	+	🌸	🌸	🌸
1	2	3		4	5	6

做做看

桌上有 3 個烤盤，又放上 6 個，共有幾個烤盤？



算式：

$$\square + \square = \square$$

1	2	3		1	2	3	4	5	6
○	○	○	+	○	○	○	○	○	○
1	2	3		4	5	6	7	8	9

做做看 1

算式：








$$\square + \square = \square$$

1	2	+	1	2	3
🌸	🌸	+	🌸	🌸	🌸
1	2		4	5	6

做做看 2

算式:









$$\square + \square = \square$$

1	2	3	4		1	2	3
				+			
1	2	3	4		5	6	7

做做看 3

算式:

$$\square + \square = \square$$

1	2	3	4		1	2	3	4
				+				
1	2	3	4		5	6	7	8

做做看 4

算式:

$$\square + \square = \square$$

1	2	3		1	2	3
★	★	★	+	●	●	●
1	2	3		4	5	6

做做看 5

算式:







$$\square + \square = \square$$

1	2	3	4		1	2
⊞	⊞	⊞	⊞	+	⊞	⊞
1	2	3	4		5	6

做做看 6

算式:









$$\square + \square = \square$$

1	2	3		1	2	3
			+			
1	2	3		4	5	6

做做看 7

算式:

$$\square + \square = \square$$

1	2	3	4		1	2	3	4
				+				
1	2	3	4		5	6	7	8