

直尺

3-2 認識 1 公分


放大

互動

布題

解說


解答

1 拿出 3 個  放在尺上比比看看，你發現了什麼？



歸納



1 個  是幾公分？




放大

互動

布題

解說

解答

2 5 個  接起來的長度是幾公分？



有 5 個 1 公分，是 5 公分。



放大

互動

布題


解說

3 方格紙每一邊的長度都是 1 公分，數數看看，繩子各長幾公分？說說看看，你是怎麼數的？



放大

解答



全長有 6 個邊，
1 個邊是 1 公分，
6 個 1 公分是 6 公分。



綠繩長 6 公分，紅繩長 公分，

藍繩長 公分。

放大

解答

試試看 看圖填填看看。

8 個  接起來的長度是 公分。

