

第1單元

10以內的數

活動 1 認識1~5

蘇佩菁 老師



1 開學了！

哪些動物來上學？

2 數一數，每種動物有幾隻？

拿出數字卡來表示。 (附件 1、2)

1 2 3 4 5

3 有幾隻浣熊？幾本書？



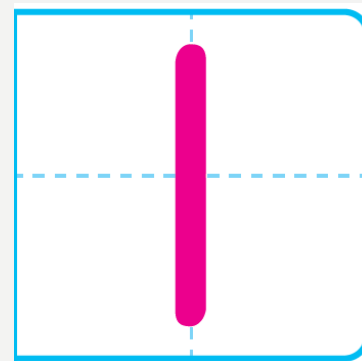
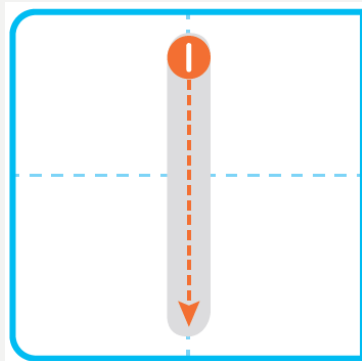
一隻浣熊，一本書，
都可以用數字「1」表示它們的數量。



還可以用什麼來表示「1」呢？

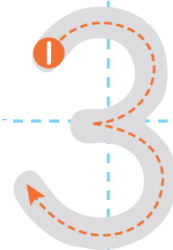



數字「1」怎麼寫呢？寫寫看。



圖裡還有什麼？可以怎麼表示呢？
寫寫看。







4 數一數，填填看。

① 教室裡有 扇門。

② 教室裡有 個板擦。



一起來唱兒歌

伊比鴨鴨

伊比鴨鴨 伊比伊比鴨

1 55 1 1 5

伊比鴨鴨 伊比伊比鴨

1 55 1 1 5

伊比鴨鴨 伊比伊比鴨鴨

1 55 1 1 55

伊比伊比鴨鴨 伊比伊比鴨

1 1 55 1 1 5



第1單元

10以內的數

活動 2 認識6 ~ 10



下課了！
大家來玩遊戲。



河馬

貓

猴子

狗

老鼠



數一數，每種動物
有幾隻？
拿出數字卡來表示。



河馬 老鼠 貓 狗 猴子

3 從 1 數到 10 ，再從 10 倒數到 1 。

4 有幾隻河馬？幾個呼拉圈？

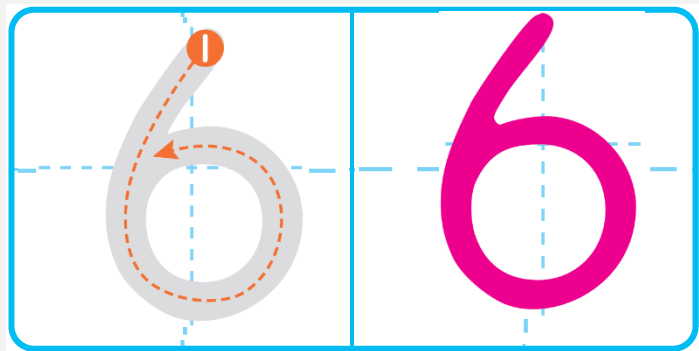


六隻河馬，六個呼拉圈，都可以用數字「6」表示它們的數量。

還可以用什麼來表示「6」呢？







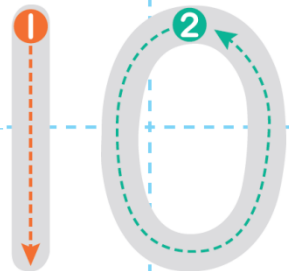
數字「6」怎麼寫呢？寫寫看。



圖裡還有什麼？可以怎麼表示呢？寫寫看。

An illustration of seven grey mice wearing red and blue shirts, using blue shovels to build a large, round beehive made of brown honeycomb.	Two hands are shown: the left hand is open with five fingers spread, and the right hand is in a 'V' shape with two fingers up.	A large number '7' is shown on a grid. The top part is a dashed grey line with orange and green arrows and numbers '1' and '2' indicating the stroke order. The bottom part is a solid pink number '7'.
	A row of five grey circles, with two more grey circles below them.	A large, solid pink number '7' on a grid.





5 數一數，填填看。

① 鉛筆盒裡有 枝筆。

② 抽屜裡有 本課本。



第1單元

10以內的數

活動 3 認識0

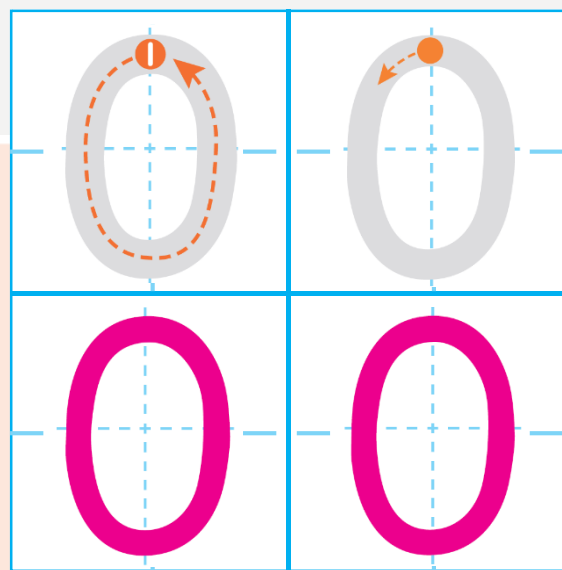
1 盤子裡還有幾根香蕉？



盤子裡沒有香蕉，

記作「0」根香蕉。

「0」讀作「零」。



2

咖啡杯裡坐了幾個人？



第1單元

10以內的數

活動 4 表示數量



2 花園裡有幾隻蝴蝶？

可以怎麼表示呢？做做看。

我用手指頭來比。

我畫7隻
蝴蝶。



我排7個
花片。



我畫7個
圈圈。



3

仔細聽，老師拍幾下？
可以怎麼表示？



練習百分百

練習百分百

① 數一數，有多少？寫寫看。

①



8 輛玩具車

②



5 隻玩具熊

練習百分百

① 數一數，有多少？寫寫看。

③



6 隻企鵝

④











10 顆糖果

練習百分百

2 畫出一樣多的○，再寫出數量。

①

					
					
	有 7 朵花				

練習百分百

② 畫出一樣多的○，再寫出數量。

②



有

9

片葉子

練習百分百

③ 魚缸裡有幾條魚？看圖寫寫看。

①

2 條魚



②

1 條魚



③

0 條魚



④ 看圖數一數，
再填填看。



①有

7

隻



②有

9

條



④ 看圖數一數，
再填填看。



③ 有 隻 

④ 有 隻 

④ 看圖數一數，
再填填看。



⑤ 有 隻 

⑥ 有 顆 