
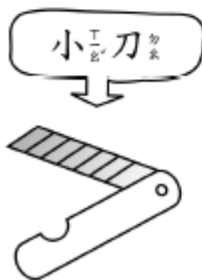
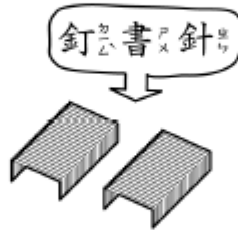
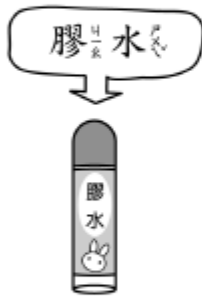
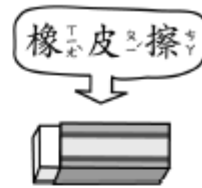



自然 4-1 學習單 磁鐵的磁力

班級：_____ 座號：_____ 姓名：_____

用手上的磁鐵試試看，把下面磁鐵可以吸附的物品圈起來：



你發現了嗎？能被吸起來的都是什麼材質做的？

(紙製品、木製品、鐵製品、塑膠製品、玻璃製品)

所以結論是什麼？用自己的話說看看？