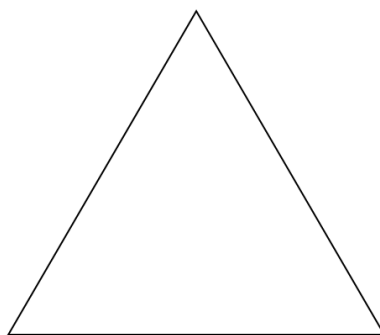


姓名：


什麼是三角形？



三角形有三個邊




哪幾個圖形是三角形的圖形，請在()中✓



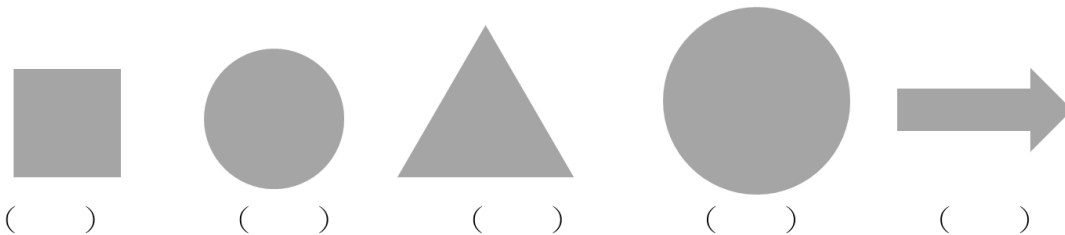
什麼是圓形？



圓形的邊不是直線，而是曲線。



哪些是圓形的圖形，請在()中✓



姓名：

什麼^ㄉ是^ㄉ長^ㄉ方^ㄉ形^ㄉ？



長^ㄉ方^ㄉ形^ㄉ有^ㄉ
二^ㄉ組^ㄉ等^ㄉ長^ㄉ
的^ㄉ邊^ㄉ。



哪^ㄉ些^ㄉ是^ㄉ長^ㄉ方^ㄉ形^ㄉ圖^ㄉ形^ㄉ，請^ㄉ在^ㄉ（ ）中^ㄉ✓



()



()



()



()




()

什麼^ㄉ是^ㄉ正^ㄉ方^ㄉ形^ㄉ？



正^ㄉ方^ㄉ形^ㄉ有^ㄉ4
個^ㄉ一^ㄉ樣^ㄉ長^ㄉ
的^ㄉ邊^ㄉ。




哪^ㄉ些^ㄉ是^ㄉ正^ㄉ方^ㄉ形^ㄉ圖^ㄉ形^ㄉ，請^ㄉ在^ㄉ（ ）中^ㄉ✓



()



()



()



()




()

姓名：



什_レ麼_ハ是_ハ角_ハ？



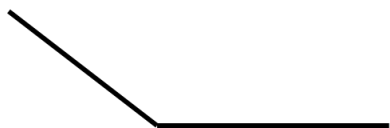
兩_カ條_ク直_シ線_ノ
所_ク組_メ成_ル的_カ。



將_レ角_ハ圈_ク起_ク來_カ。



將_レ角_ハ的_カ大_キ小_ナ由_テ大_キ到_キ小_ナ排_ビ序_ト。
最_モ大_キ的_カ角_ハ標_シ 1 ， 以_テ此_ヲ類_シ推_ス。



()



()



()