

| | | |
|---------|---------|---|
| 貨幣功能及特性 | (A)交易媒介 | 買賣行為的_____工具。 貨幣成為交易媒介的重要四項特性： 1. _____ 2. _____ 3. _____ 4. _____ |
| | (B)價值衡量 | 以貨幣作為_____單位，使財貨與勞務的價值能有一致的衡量標準。 |
| | (C)價值儲存 | 將所得或財富以貨幣形式儲存供未來消費。 |
| | (D)債務清償 | 貨幣作為延遲支付的標準、未來清償債務的工具。 |

- () 1.周小姐到書店購買雜誌，看到雜誌封面上標示著「定價 300 元」。
- () 2.浩浩將每年父母給他的壓歲錢存到銀行帳戶裡，作為未來的留學基金。
- () 3.彭先生請朋友到餐廳吃飯，結帳時，他掏出一張千元大鈔付款。
- () 4.小新以分期付款的方式買了一台新機車。
- () 5.寧寧利用晚上打工，每個月可存下 1 萬元。

隨堂練習

1. () 新臺幣是以紙鈔、硬幣為形式，在臺灣大家願意使用「新臺幣」交換所需物資，其主要的原因為何？(A)政府以法令強制其具有價值 (B)新臺幣的材料本身就有價值 (C)貨幣發行數量少，較具價值 (D)新臺幣的印製非常方便快捷。
2. () 附表為四個國家於某段時間內，物價上漲程度與薪資調整幅度的比較表，若不考慮其他因素，這樣的狀況對哪一個國家的人民生活較為不利？

| | (A)甲國 | (B)乙國 | (C)丙國 | (D)丁國 |
|--------|-------|-------|-------|-------|
| 物價上漲程度 | 2% | 5% | 10% | 6% |
| 薪資調整幅度 | 3% | 1% | 13% | 6% |

3. () 阿芸跟爸媽要零用錢，爸媽要阿芸把需要的預算列出來，阿芸說：「自動鉛筆 20 元、筆記本 10 元、參考書要 200 元」由上述可知「元」代表貨幣的何種功能？(A)價值儲藏 (B)債務清償 (C)交易媒介 (D)價值衡量。
4. () 附圖內容顯示貨幣的何種功能？
(A)交易媒介 (B)債務清償
(C)價值衡量 (D)價值儲藏。



5. () 小慧上網看旅遊行程，發現暑假的團體旅遊都漲價了，日本行要價 5 萬元以上，美西迪士尼親子團要 12 萬 5 千元。上述團費價格是說明貨幣的何種功能？(A)價值衡量 (B)價值儲藏 (C)交易媒介 (D)債務清償。
6. () 王小彤看到非洲貧窮生活的新聞報導後，問媽媽：「為何當地政府不大量印製鈔票給人民使用？」若當地政府大量印製鈔票，可能會產生什麼樣的後果？(A)使民眾消費能力提升 (B)民眾的儲蓄動機增強 (C)物價會不斷上漲(D)生產者傾向停止生產。
7. () 小楷和表哥相約去看電影，兩人各自(甲)花費 250 元。之後他們去逛書店，表哥本來想 (乙)以現金 300 元買該電影原著。小楷則建議表哥(丙)以刷卡方式購買，既有利率優惠又可先享受後付款。表哥認為這樣可以(丁)省下一點錢來儲蓄，於是接受了此項建議。依據上述內容，下列關於貨幣功能的對應關係，何者最正確？【96 基測一改】(A)甲：具有交易媒介性質 (B)乙：屬價值儲藏的方式 (C)丙：可以衡量商品價值 (D)丁：展現延期償債特性。

5-2 新型態的支付工具

| | | |
|----------|----|---------------------------|
| 塑膠 貨幣 | 背景 | 現代人會使用各種 支付工具 進行交易 |
| | 型態 | 儲值卡、信用卡等塑膠製的卡片 |
| | 優點 | _____，簡化貨幣使用上的不便 |

| | | | |
|-------------|------|---|--|
| 儲 值 卡 | 特性 | 是一種_____的制度，消費者必須先將 現金 存入儲值卡中 | |
| | 使用方式 | 持卡片到特定商店消費，大多用於 小額支付 | |
| | 法律地位 | · 根據_____法 的規定，是消費者與業者簽訂的 契約 · 業者必須_____契約，消費者必須注意 契約內容及風險 | |
| | 法律保障 | 業者無法提供商品或服務的情況時： 消費者可以_____ 其他業者_____ | |

| | | | | |
|-------------|----------|---|--------------------|-----------|
| 信 用 卡 | 特性 | 發卡銀行 依據每個人的_____及_____，核發一定的信用額度 | | |
| | 使用 方式 | 使用地點 | 使用金額 | 使用意義 |
| | | 接受信用卡支付的商店 | 信用額度內，先_____後_____ | 具_____的功能 |

| | |
|------|---|
| 法律地位 | 持信用卡行交易，是先由發卡銀行代為支付費用，在約定繳費期限截止之前，持卡人仍須以_____支付帳單 |
| 使用注意 | 1.未能全額繳清，會欠_____，並須支付高額_____ 2.注意自己的_____能力，以免過度消費而影響自身的信用 |

| | | |
|-------|------|---|
| 電子化支付 | 發展背景 | 科技迅速發展的時代下，儲值卡和信用卡不斷整合升級，加上 手機持有的普及 ，各種電子化的支付方式使交易更加便利 |
| | 法律地位 | 儲值卡和信用卡都不具備完整的 貨幣功能 ，都只是方便交易的支付工具，實際仍須以_____支付 |

隨堂練習

- () 隨著市場交易活動的增加，出現代替現金交易的信用卡，但信用卡並非真正的貨幣，其主要原因為下列何者？(A)信用卡防偽功能較差，容易出現盜刷的情況 (B)信用卡僅能延遲支付，最後仍須以法定貨幣清償刷卡費用 (C)信用卡沒有得到政府發行許可，不易獲得民眾的信賴 (D)信用卡的普及性不足，無法在所有商店使用。
- () 關於「法定貨幣」與「信用卡」的區分，下列何者敘述正確？(A)信用卡又稱塑膠貨幣，是貨幣的一種 (B)法定貨幣面額愈大，購買力愈強 (C)法定貨幣由法令強制賦予其價值 (D)信用卡最大的功能就是清償債務。
- () 下列關於「信用卡」與「儲值卡」的對比，何者錯誤？

| 項目 | 信用卡 | 儲值卡 |
|---------|--------|--------|
| (A)發行機構 | 商業銀行 | 商店業者 |
| (B)事先儲值 | 需要 | 不需要 |
| (C)延期支付 | 可以 | 不能 |
| (D)支付媒介 | 法定貨幣支付 | 法定貨幣支付 |

5-3 外幣與匯率

| | | |
|----|----|----------------------------------|
| 外幣 | 定義 | 本國以外的貨幣 |
| | 用途 | _____貿易的 交易媒介 ，包括美金、日圓、歐元 |

- 國與國之間貨幣價值不同，國與國之間貨幣兌換的比率稱為_____。大多數國家每天依據_____的供給和需求來決定匯率。

| 匯率升貶 | | | |
|------|---------------------|----------------------|----------------------|
| 匯率 | 1:30 | 1:32 | 1:28 |
| 意義 | 1 美元可兌換 新臺幣 30 元 | 1 美元可兌換 新臺幣_____元 | 1 美元可兌換 新臺幣_____元 |
| | (檢視基準) | _____ 升值 _____ 貶值 | _____ 升值 _____ 貶值 |

· 外幣的買賣

| | 購買外幣 | 出售外幣 |
|---------------|---|---|
| 使用情境 (請圈選) | <ul style="list-style-type: none"> · 出國 / 來台 · 進口商 / 出口商 · 投資國外 / 來台投資 | <ul style="list-style-type: none"> · 出國 / 來台 · 進口商 / 出口商 · 投資國外 / 來台投資 |

· 臺灣各項產業都仰賴**國際貿易**，匯率的變動對進出口都有所影響，_____負責維持幣值穩定。

臺幣**貶值**(錢變_____)，不利臺灣_____商，有利臺灣_____商；

臺幣**升值**(錢變_____)，有利臺灣_____商，不利臺灣_____商。

綜合練習

· 請依(表一)圈出正確答案：

1. 甲幣今年呈現(升值/貶值)。
2. 乙幣今年呈現(升值/貶值)。
3. 若以甲國而言，今年有利於對乙國的(進口/出口)貿易。
4. 甲國人民今年到乙國旅遊的意願會(上升/下降)。
5. 甲國人民今年 (購買/出售)乙幣較有利。
6. 甲國進口乙國的商品售價可能會 (上漲/下跌)。

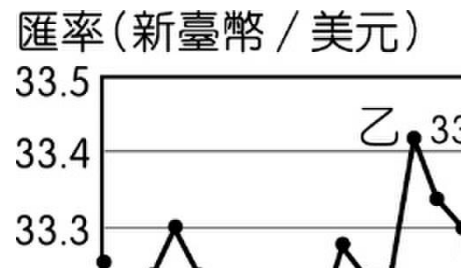
| 時間 | 1 甲幣可兌換的乙幣 |
|----|------------|
| 去年 | 10 |
| 今年 | 20 |

(表一)

隨堂練習

1. () 民國 89 年，中央銀行發行新臺幣貳仟元的紙鈔，引起民眾的討論。上述政府發行貳仟元新鈔的作法，最能發揮下列哪一種功能？【92 基測二改】
(A)方便民眾攜帶儲存 (B)提高人民消費能力 (C)增加政府持有的外幣數量 (D)減緩國內物價上升趨勢。

2. () 某公司定期以新臺幣兌換美元後，向美國進口價值一千萬美元的原料。附圖是該公司的兌換紀錄，圖中顯示：「在不同時間點，以 1 美元兌換新臺幣的比率」若僅根據圖中內容判斷，並以新臺幣為衡量單位，甲、乙、丙、丁四個時間點，何者的進貨成本最低？



【100 基測一】

(A)甲 (B)乙 (C)丙 (D)丁。

3. () 凱吉正在閱讀財經雜誌一篇關於鄰國的報導，如附圖所示。該報導的主題應與下列何者相關？(A)匯率變動對國際貿易的影響 (B)出口貿易會有利於賺取外匯 (C)進口貿易促進國家經濟發展 (D)國際分工以專業生產為基礎。



4. () 臺灣自然資源不豐、市場狹小，若想維持經濟發展，應該採取何種政策？

(A)將本島的資源，盡可能開發出口 (B)維持貨幣穩定，平衡進出口利益 (C)促使貨幣貶值，不要購買外國貨 (D)促使貨幣升值，盡量購買外國貨。

5. () 阿平開了一間專門進口國外食材的公司，每到月初就必須向國外廠商訂購食材，最近新臺幣對美金的匯率從 30 : 1 變成 29 : 1。面對此經濟現象，下列哪一作法是最明智的？(A)美金升值，可增加進貨 (B)美金貶值，可減少進貨 (C)新臺幣升值，可增加進貨 (D)新臺幣貶值，可減少進貨。

6. () 阿江師的餐廳，每天固定花 15 萬元新臺幣向澳洲進口龍蝦。附表是 10 月 22、23 日的龍蝦進貨數量表。若其他條件不變，則造成此數量變動的因素為何？

| 日期 | 龍蝦數量 |
|---------|--------|
| 10 / 22 | 100 臺斤 |
| 10 / 23 | 70 臺斤 |

(甲)新臺幣升值 (乙)新臺幣貶值 (丙)澳幣升值 (丁)澳幣貶值

(A)甲丙 (B)甲丁 (C)乙丙 (D)乙丁。

課後閱讀 P222

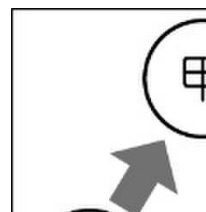
1. () 根據上文，為什麼瑞典政府要放慢無現金支付的腳步？(複選)(A)減少店家的人事成本 (B)不用擔心遭到扒手偷竊 (C)對老人或遊客將造成衝擊 (D)消費行為有被監控的可能 (E)容易受到停電、駭客攻擊影響。

2. () 文中提到無現金支付的電子交易因為記錄大量消費數據，這些數據幾乎等於沒有畫面的監視器，監控所有的消費行為，此一社會現象凸顯現代科技發展的什麼問題？(A)科技進步與隱私維護的兩難 (B)科技進步與經濟成長的兩難 (C)瑞典政府不重視資訊倫理議題 (D)瑞典人民不重視資訊倫理議題。

3. () 瑞典的無現金支付的電子交易發揮哪一種貨幣的功能？(A)價值儲藏 (B)價值衡量 (C)債務清償 (D)交易媒介。
4. () 下列對人類使用貨幣的歷程何者正確？(A)以物易物→法定貨幣→塑膠貨幣→商品貨幣 (B)商品貨幣→以物易物→法定貨幣→塑膠貨幣 (C)以物易物→商品貨幣→法定貨幣→塑膠貨幣 (D)塑膠貨幣→以物易物→商品貨幣→法定貨幣。
5. () 文中提到瑞典知名家具品牌進行現金支付實驗。據門市店經理表示，儘管只有1%的顧客用現金，但員工卻需要花費一天工作中15%的時間，去整理、計算現金，藉此凸顯使用現金額外產生的成本。此「成本」是哪一種經濟學觀念呢？(A)債務清償 (B)機會成本 (C)匯率變動 (D)營業利潤。

會考演練

1. () 附圖呈現甲、乙、丙三國的貿易情況。若甲國受匯率變動的影響，使得某段時間的進、出口商品數量皆大幅增加，則根據圖中內容判斷，該段時間甲國貨幣的匯率變化，最可能為下列何者？【111 會考】



- (A)相對乙、丙兩國貨幣皆升值 (B)相對乙、丙兩國貨幣皆貶值
(C)相對乙國貨幣升值，但相對丙國貨幣貶值
(D)相對乙國貨幣貶值，但相對丙國貨幣升值。

2. () 附表是阿布分別在不同日期看到的美元兌換價格。根據表中內容判斷，比較2017年1月5日與2018年1月5日，其匯率變化最可能造成下列何種影響？【111 會考補考】

| 2017年1月5日 | |
|-----------|------------|
| 幣別 | 兌換價格 |
| 1 美元 | 31.97 元新臺幣 |
| 2018年1月5日 | |
| 幣別 | 兌換價格 |
| 1 美元 | 29.55 元新臺幣 |

- (A)美國自臺灣進口的商品漲價 (B)臺灣出口至美國的商品降價
(C)美國民眾前往臺灣旅遊的意願提高 (D)臺灣民眾前往美國旅遊的意願降低。

3. () 附表是甲、乙兩國匯率變動的情形，以吸引乙國遊客為主的甲國觀光業者，看到此變化後感到很憂心。根據表中內容判斷，若甲國的物價水準維持不變，下列何者最可能是上述業者的憂慮？【109 會考】

| 時間 | 1 甲幣可兌換的乙幣 |
|----|------------|
| 去年 | 10 |
| 今年 | 20 |

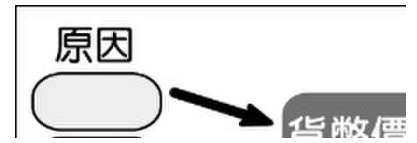
- (A)甲國觀光業者經營成本提高 (B)乙國人的平均薪資所得減少 (C)甲國觀光業者數量大幅增加 (D)乙國人到甲國旅遊意願下降。

4. () 某官員在接受質詢時說：「近來因國際投資客將大筆資金投入我國金融市場，使得新臺幣相對美元大幅升值，為避免過度升值對我國出口貿易產生不利影響，

我們將會適時介入影響新臺幣的匯率、控制貨幣數量，以維持物價的穩定。」下列何者最有可能是上述官員任職的政府機關？【105 會考】

(A)財政部 (B)經濟部 (C)臺灣銀行 (D)中央銀行。

5. () 公民老師為介紹歷史上某一重要事件所使用的簡圖，如附圖。其中甲、乙最可能為下列何者？【104 會考改】



- (A)甲：政府持續大量發行貨幣，乙：人民生活水準上升
(B)甲：政府持續大量發行貨幣，乙：人民生活水準下降
(C)甲：政府減少貨幣流通數量，乙：人民生活水準上升
(D)甲：政府減少貨幣流通數量，乙：人民生活水準下降。

6. () 2013 年，巴西幣貶值，幣值創四年來低點，連帶影響該國的進出口貿易。若其他條件不變的情況下，此幣值波動對巴西咖啡產業造成的影響，下列何者正確？

【104 會考改】

- (A)巴西為出口國，此波動有利咖啡出口 (B)巴西為出口國，此波動不利咖啡出口
(C)巴西為進口國，此波動有利咖啡出口 (D)巴西為進口國，此波動不利咖啡出口。

7. () 歷史老師說：「元代即將滅亡的時候，政府為籌措龐大的軍費，大量印發紙幣因應，導致紙幣濫發無度……」上述政府作為所導致的經濟問題，若在今日持續發生，社會上最可能出現下列何種現象？【100 基測一】

- (A)市場上大部分產品的出售價格將會愈來愈高 (B)受預期心理影響，民眾會減少當時的消費支出 (C)同一面額紙幣所能購買的商品數量將會愈來愈多 (D)人民所擁有的貨幣不斷地增加，生活水準日益提升。

8. () 小光正在進行一場益智遊戲，須在其他條件不變的情況下，依所抽出卡片的内容，答出卡片中的現象將會對國內人民產生何種影響。若附圖是小光抽到的卡片，他應回答下列何者才能順利過關？【100 北北基改】



- (A)儲蓄意願降低 (B)減少使用信用卡 (C)消費能力日漸提升 (D)更願意擁有該國貨幣。